

परीक्षा का नाम एवं कोड: प्रहरी सीधी भर्ती-2024 (प्रथम चरण), DG-06

परीक्षा की दिनांक: 12-04-2025

प्रारम्भिक उत्तर कुंजी

प्रश्न की क्रम संख्या	सही उत्तर का विकल्प संख्या
1	B
2	D
3	A
4	C
5	D
6	B
7	A
8	A
9	A
10	C
11	A
12	B
13	C
14	D
15	C
16	C
17	A
18	A
19	D
20	D
21	B
22	A
23	A
24	A
25	D

प्रश्न की क्रम संख्या	सही उत्तर का विकल्प संख्या
26	A
27	D
28	C
29	A
30	C
31	B
32	A
33	D
34	C
35	A
36	A
37	D
38	C
39	D
40	D
41	A
42	B
43	C
44	A
45	C
46	A
47	C
48	B
49	B
50	B

प्रश्न की क्रम संख्या	सही उत्तर का विकल्प संख्या
51	A
52	C
53	B
54	C
55	B
56	C
57	C
58	D
59	D
60	C
61	D
62	A
63	D
64	A
65	D
66	C
67	B
68	D
69	D
70	B
71	D
72	C
73	B
74	C
75	C

प्रश्न की क्रम संख्या	सही उत्तर का विकल्प संख्या
76	A
77	B
78	B
79	B
80	D
81	D
82	B
83	B
84	C
85	C
86	A
87	A
88	A
89	D
90	A
91	D
92	B
93	C
94	C
95	C
96	C
97	B
98	A
99	A
100	A

दिनांक:

सचिव



प्रश्न पुस्तिका / QUESTION BOOKLET

पुस्तिका में पृष्ठों की संख्या/
Number of Pages in Booklet : 28पुस्तिका में प्रश्नों की संख्या/
Number of Questions in Booklet : 100

DG-06



इस परीक्षा पुस्तिका को तब तक न खोलें
जब तक कहा न जाए।
Do not open this test booklet until
you are asked to do so.

समय/
Time : 2.00 घंटे
Hours

पूर्णांक/Maximum Marks : 400

Question Booklet Number
प्रश्न पुस्तिका क्रमांक

अनुदेश / INSTRUCTIONS

- प्रश्न पत्र को हल करने से पहले, कृपया अपनी प्रश्न पुस्तिका और ओ.एम.आर. उत्तर-पत्रक की जाँच करें और सुनिश्चित करें कि :
 - प्रश्न पुस्तिका और ओ.एम.आर. उत्तर-पत्रक की क्रम संख्या समान है।
 - प्रश्न पुस्तिका के सभी पृष्ठ ठीक से मुद्रित हैं और सभी पृष्ठों पर सारे प्रश्न मुद्रित हैं।

किसी भी विसंगति/दोष के मामले में, अभ्यर्थी को प्रश्न पुस्तिका और ओ.एम.आर. उत्तर-पत्रक को बदलने के लिए तुरंत अभिजागर को मामले की सूचना देनी चाहिए। परीक्षा प्रारम्भ होने के पाँच मिनट बाद इस संबंध में किसी भी दावे/आपत्ति पर विचार नहीं किया जाएगा। इसके लिए अभ्यर्थी उत्तरदायी होगा।

Before attempting the question paper, kindly check your Question Booklet (QB) and O.M.R. Answer Sheet and ensure that :

 - Serial number of Question Booklet (QB) and O.M.R. Answer Sheet is same.
 - All pages and all questions are properly printed.

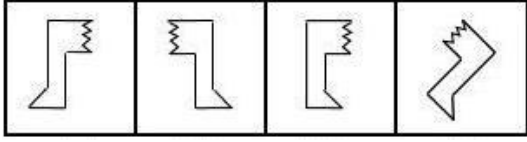
In case of any discrepancy/defect, the candidate should immediately report the matter to the Invigilator for replacement of Question Booklet (QB) and O.M.R. Answer Sheet. No claim/objection in this regard will be entertained after five minutes of start of examination, candidate will be liable for the same.
- ओ.एम.आर. उत्तर-पत्रक के पीछे दिए गए सभी निर्देश पढ़ें।
Read all instructions on the reverse of O.M.R. Answer Sheet.
- ओ.एम.आर. उत्तर-पत्रक पर केवल नीले बॉल प्वाइंट पेन का प्रयोग करें। कृपया, ओ.एम.आर. उत्तर-पत्रक में अपना रोल नंबर और अन्य जानकारी सही ढंग से भरें।
On O.M.R. Answer Sheet, use blue ball point pen only. Please, fill your Roll No. and other information correctly in O.M.R. Answer Sheet.
- सभी प्रश्नों के अंक समान हैं। प्रत्येक गलत उत्तर के लिए प्रश्न का 1/4 अंक काटा जायेगा।
All questions carry equal marks. For each wrong answer 1/4 mark will be deducted.
- यदि किसी प्रश्न के लिए एक से अधिक उत्तर अंकित किये जाते हैं तो उसे भी गलत उत्तर माना जायेगा।
If more than one response is marked for a question, it would also be treated as wrong answer.
- प्रत्येक प्रश्न में पाँच विकल्प/गोले हैं। पहले चार विकल्प/गोले A, B, C और D उपयुक्त उत्तर से संबंधित हैं और पाँचवाँ विकल्प/गोला 'E' 'अनुत्तरित प्रश्न' से संबंधित है।
Each question has five options/circles. First four options/circles A, B, C and D are related to appropriate answer and fifth option/circle 'E' is related to 'Question not attempted'.
- सही उत्तर दर्शाने के लिए अभ्यर्थी को ओ.एम.आर. उत्तर-पत्रक पर संबंधित प्रश्न संख्या के पहले चार विकल्प A, B, C या D में से केवल एक विकल्प/गोले को नीले बॉल प्वाइंट पेन से भरना होगा। यदि अभ्यर्थी किसी प्रश्न का उत्तर नहीं देना चाहता है तो पाँचवाँ विकल्प/गोले 'E' को गहरा करना होगा।
To indicate the correct answer, the candidate has to fill in only one option/circle A, B, C or D with blue ball point pen for respective question number on the OMR Answer Sheet. If the candidate does not want to answer any question then the fifth option/circle 'E' should be darkened.
- यदि पाँच विकल्पों में से कोई भी विकल्प/गोला गहरा नहीं किया गया तो प्रश्न का 1/3 भाग अंक काट लिया जायेगा।
1/3 part of the marks will be deducted for the questions, if none of the option/circle options are darkened.
- 10 प्रतिशत से अधिक प्रश्नों में किसी भी विकल्प/गोले को अभ्यर्थी द्वारा गहरा नहीं किया गया तो उसे परीक्षा के लिए अयोग्य घोषित कर दिया जाएगा।
If a candidate leaves more than 10 percent questions or does not darken any of the five options, he/she will be disqualified for the exam.
- अभ्यर्थी को प्रत्येक प्रश्न के लिए कम से कम एक विकल्प/गोला भरना है या नहीं यह सुनिश्चित करने के लिए 10 मिनट अतिरिक्त दिए जाएँगे।
Candidate will be given 10 minutes extra to make sure, if he/she has filled up any one option/circle for each questions.
- यदि प्रश्न के हिन्दी या अंग्रेजी संस्करण में मुद्रण या तथ्यात्मक प्रकृति की किसी भी प्रकार की अस्पष्ट/गलती है, तो अंग्रेजी संस्करण को अंतिम माना जाएगा।
If there is any sort of ambiguity/mistake either of printing or factual in nature in Hindi or English version of questions, then the English Version will be treated as final.
- परीक्षा हॉल में मोबाईल फोन/ब्लूटूथ डिवाइस या किसी अन्य इलेक्ट्रॉनिक गैजेट का उपयोग सख्त वर्जित है। यदि किसी अभ्यर्थी के पास ऐसी कोई प्रतिबंधित सामग्री पाई गई तो उसके विरुद्ध नियमानुसार सख्त कार्रवाई की जाएगी।
Use of Mobile Phone/Bluetooth Device or any other electronic gadget in the examination hall is strictly prohibited. If any such prohibited material is found with any candidate, strict action will be taken against him/her as per rules.

चेतावनी : यदि कोई अभ्यर्थी नकल करते हुए पाया जाता है या अनुचित तरीके अपनाते हुए पाया जाता है या उसके पास कोई अनाधिकृत सामग्री पाई जाती है तो उसके खिलाफ पुलिस स्टेशन में एफ.आई.आर. दर्ज की जाएगी और वह राज्य सार्वजनिक परीक्षा अधिनियम, 2022 और संशोधन अधिनियम 2023, (भर्ती में अनुचित साधनों की रोकथाम के अध्यापय) के तहत मुकदमा चलाने के लिए उत्तरदायी होगा जिसमें 10 वर्ष से आजीवन कारावास तथा ₹ 10 करोड़ तक का प्रावधान है। उसे बोर्ड की भविष्य की सभी परीक्षाओं से स्थायी रूप से विवर्जित भी किया जा सकता है।

Warning : If a candidate is found copying or using unfair means or if any unauthorized material is found in his/her possession, F.I.R. will be lodged against him/her in the Police Station and he/she would be liable to be prosecuted under State Public Examination (Measures for Preventions of Unfair Means in Recruitment) Act, 2022 and Amendment Act, 2023. The act has provisions of imprisonment of 10 years to life and fine up to ₹ 10 crore. Board may also debar him/her permanently from all future examinations conducted by the Board.

- | | |
|--|---|
| <p>1. निम्नलिखित शब्द युग्म एक विशेष रूप से संबंधित है। कौन सा युग्म इस पैटर्न का अनुसरण नहीं करता ?</p> <p>(A) कुत्ता : पिल्ला (पप्पी)</p> <p>(B) गाय : बैल</p> <p>(C) बिल्ली : बिल्ली का बच्चा</p> <p>(D) शेर : शावक</p> <p>(E) अनुत्तरित प्रश्न</p> | <p>1. The following pairs of words are related in a particular manner. Which pair does not follow that pattern ?</p> <p>(A) Dog : Puppy</p> <p>(B) Cow : Bull</p> <p>(C) Cat : Kitten</p> <p>(D) Lion : Cub</p> <p>(E) Question not attempted</p> |
| <p>2. दी गई श्रृंखला में लुप्त पद ज्ञात कीजिए : ZYO, XWP, VUQ, ?</p> <p>(A) STR (B) RTS</p> <p>(C) TRS (D) TSR</p> <p>(E) अनुत्तरित प्रश्न</p> | <p>2. Find the missing term in the given series : ZYO, XWP, VUQ, ?</p> <p>(A) STR (B) RTS</p> <p>(C) TRS (D) TSR</p> <p>(E) Question not attempted</p> |
| <p>3. सूचना का अधिकार अधिनियम, 2005 (RTI अधिनियम) प्रत्येक सार्वजनिक प्राधिकरण के कामकाज में निम्नलिखित में से किस गुण को बढ़ावा देने का प्रयास करता है ?</p> <p>नीचे दिए गए विकल्पों में से सबसे उपयुक्त उत्तर चुनें।</p> <p>(A) पारदर्शिता (B) दक्षता</p> <p>(C) प्रतिष्ठा (D) समय की पाबंदी</p> <p>(E) अनुत्तरित प्रश्न</p> | <p>3. The Right to Information Act, 2005 (RTI Act) seeks to promote which of the following qualities in the working of every public authority ?</p> <p>Choose the most appropriate answer from the options given below.</p> <p>(A) Transparency (B) Efficiency</p> <p>(C) Reputation (D) Punctuality</p> <p>(E) Question not attempted</p> |
| <p>4. मानव शरीर में बड़ी आंत का कार्य मुख्य रूप से है : नीचे दिए गए विकल्पों में से सबसे उपयुक्त उत्तर चुनें।</p> <p>(A) कार्बोहाइड्रेट को पचाना</p> <p>(B) पचे हुए भोजन से सभी पोषक तत्वों को अवशोषित करना</p> <p>(C) पानी और लवणों को अवशोषित करना और बिना पचे भोजन को बाहर निकालना</p> <p>(D) प्रोटीन को पचाना</p> <p>(E) अनुत्तरित प्रश्न</p> | <p>4. The function of the large intestine in the human body is mainly to :</p> <p>Choose the most appropriate answer from the options given below.</p> <p>(A) Digest the carbohydrates</p> <p>(B) Absorb all nutrients from the digested food</p> <p>(C) Absorb water and salts and excrete the undigested food</p> <p>(D) Digest the proteins</p> <p>(E) Question not attempted</p> |

5. निम्नलिखित आकृतियों में से कौन सी आकृति बाकी से भिन्न है ?



(a) (b) (c) (d)

(A) (b) (B) (d)

(C) (a) (D) (c)

(E) अनुत्तरित प्रश्न

6. भूकंप तरंगों को मापने के लिए निम्नलिखित में से किस उपकरण का उपयोग किया जाता है ?

नीचे दिए गए विकल्पों में से सबसे उपयुक्त उत्तर चुनें।

(A) वर्षामापी

(B) सीस्मोग्राफ

(C) अधिकतम और न्यूनतम थर्मामीटर

(D) बैरोमीटर

(E) अनुत्तरित प्रश्न

7. यदि PAPER को 16-0-16-0-18 के रूप में कूटित (कोडित) किया गया है, तो आप PENCIL को कैसे कोडित करेंगे ?

(A) 16-0-14-3-0-12 (B) 16-0-14-0-0-3

(C) 16-5-14-3-9-12 (D) 16-5-9-12-0-3

(E) अनुत्तरित प्रश्न

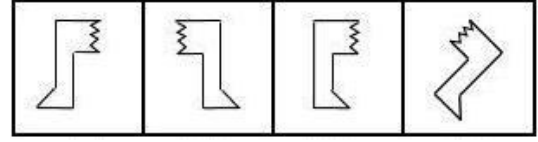
8. संशोधित बजट 2024-25 के अनुसार, 25 लाख ग्रामीण परिवारों के लिए जल जीवन मिशन पेयजल पर अनुमानित व्यय क्या है ?

(A) 15 हजार करोड़ (B) 20 हजार करोड़

(C) 25 हजार करोड़ (D) 10 हजार करोड़

(E) अनुत्तरित प्रश्न

5. Amongst the following figures, which one is different from the rest ?



(a) (b) (c) (d)

(A) (b) (B) (d)

(C) (a) (D) (c)

(E) Question not attempted

6. Which of the following instrument is used to measure Earthquake waves ?

Choose the **most appropriate** answer from the options given below.

(A) Rain gauge

(B) Seismograph

(C) Max and Min Thermometer

(D) Barometer

(E) Question not attempted

7. If PAPER is coded as 16-0-16-0-18, how will you code PENCIL ?

(A) 16-0-14-3-0-12 (B) 16-0-14-0-0-3

(C) 16-5-14-3-9-12 (D) 16-5-9-12-0-3

(E) Question not attempted

8. According to modified budget 2024-25, what is the estimated expenditure on Jal Jeevan Mission drinking water for 25 lacs rural households ?

(A) 15 thousand crores (B) 20 thousand crores

(C) 25 thousand crores (D) 10 thousand crores

(E) Question not attempted

9. निम्नलिखित अनुक्रम में अगली संख्या क्या है ?

77, 49, 36, 18, _____

- (A) 8 (B) 6
(C) 7 (D) 9
(E) अनुत्तरित प्रश्न

10. नीचे दिए गए प्रश्न में, एक कथन के बाद दो तर्क I और II दिए गए हैं। तय करें कि कौन सा/से तर्क मजबूत है/हैं ?

कथन :

क्या माता-पिता को अपनी बेटियों की शिक्षा की तुलना में अपने बेटों की शिक्षा पर अधिक पैसा खर्च करना चाहिए ?

तर्क :

- I. हाँ। आंकड़े दर्शाते हैं कि लड़के लड़कियों की तुलना में अधिक सफल होते हैं।
II. हाँ। माता-पिता को अपनी बेटी की शिक्षा की तुलना में उसकी शादी पर अधिक पैसा खर्च करना चाहिए।

- (A) केवल तर्क II मजबूत है।
(B) या तो I या II मजबूत है।
(C) न तो I और न ही II मजबूत है।
(D) केवल तर्क I मजबूत है।
(E) अनुत्तरित प्रश्न

11. एक निश्चित कोड में, BLACK को 29 लिखा जाता है। उसी कोड में WHITE को कैसे लिखा जाएगा ?

- (A) 65 (B) 23
(C) 56 (D) 92
(E) अनुत्तरित प्रश्न

12. भारतीय संविधान कब अपनाया गया था ?

- (A) 26 नवंबर 1950
(B) 26 नवंबर 1949
(C) 2 अक्टूबर 1948
(D) 15 अगस्त 1947
(E) अनुत्तरित प्रश्न

9. What is the next number in the following sequence ?

77, 49, 36, 18, _____

- (A) 8 (B) 6
(C) 7 (D) 9
(E) Question not attempted

10. The question given below consists of a statement followed by two arguments I and II. Decide which of the argument(s) is/are strong ?

STATEMENT :

Should parents spend more money on the education of their sons than on the education of their daughters ?

ARGUMENTS :

- I. Yes. The data shows that boys succeed more than girls.
II. Yes. Parents should spend more money on their daughter's marriage than on her education.

- (A) Only argument II is strong.
(B) Either I or II is strong.
(C) Neither I nor II is strong.
(D) Only argument I is strong.
(E) Question not attempted

11. In a certain code, BLACK is written as 29. How is WHITE written in that code ?

- (A) 65 (B) 23
(C) 56 (D) 92
(E) Question not attempted

12. The Indian Constitution was adopted on :

- (A) 26 November 1950
(B) 26 November 1949
(C) 2 October 1948
(D) 15 August 1947
(E) Question not attempted

13. नीचे दिए गए प्रश्न में एक कथन के बाद दो धारणाएँ I और II दी गई हैं। कथन को सत्य मानते हुए, तय करें कि कौन सी धारणा/धारणाएँ निहित है/हैं ?

कथन :

देश X में कपड़ा कारखानों की संख्या में वृद्धि के बावजूद, यह कपड़े का आयात करना जारी रखता है।

धारणाएँ :

- I. X में प्रति व्यक्ति कपड़े की माँग बहुत बढ़ रही है।
II. X की कपड़ा फैक्ट्रियाँ अकुशल हैं।

- (A) केवल धारणा II निहित है।
(B) या तो I या II निहित है।
(C) I और II दोनों निहित हैं।
(D) केवल धारणा I निहित है।
(E) अनुत्तरित प्रश्न

14. निम्नलिखित में से किसके पास किसी राज्य के राज्यपाल को पद से हटाने की शक्ति है ?

- (A) विधान सभा
(B) मुख्यमंत्री
(C) सभापति
(D) राष्ट्रपति
(E) अनुत्तरित प्रश्न

15. नीचे दिए गए प्रश्न में एक कथन और उसके बाद दो निष्कर्ष (I और II) दिए गए हैं। कथन को सत्य मानते हुए, तय करें कि उनमें से कौन सा निष्कर्ष कथन में दी गई जानकारी से तार्किक रूप से संदेह से परे अनुसरण करता है ?

कथन : मृत्यु अपरिहार्य है।

निष्कर्ष :

- I. मनुष्य नश्वर है।
II. जो लोग जन्म लेते हैं, उन्हें एक दिन मरना ही पड़ता है।

- (A) केवल निष्कर्ष II अनुसरण करता है।
(B) न तो I और न ही II अनुसरण करता है।
(C) I और II दोनों अनुसरण करते हैं।
(D) केवल निष्कर्ष I अनुसरण करता है।
(E) अनुत्तरित प्रश्न

13. The question given below consists of a statement followed by two assumptions I and II. Considering the statement as true, decide which of the assumption(s) is/are implicit ?

STATEMENT :

In spite of an increase in the number of textile factories in a country X, it continues to import fabric.

ASSUMPTIONS :

- I. The demand of fabric per capita in X is over increasing.

- II. The textile factories of X are inefficient.

- (A) Only assumption II is implicit.
(B) Either I or II is implicit.
(C) Both I and II are implicit.
(D) Only assumption I is implicit.
(E) Question not attempted

14. Who among the following has the power to remove the governor of a state from office ?

- (A) Legislative Assembly
(B) Chief Minister
(C) Speaker
(D) President
(E) Question not attempted

15. In the question, given below is a statement followed by two conclusions (I and II). Assume the statement to be true, decide which of the conclusions logically follows from the information given in the statement beyond a reasonable doubt ?

STATEMENT : Death is inevitable.

CONCLUSIONS :

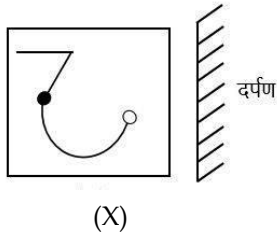
- I. Man is mortal.

- II. Those who are born must die one day.

- (A) Only conclusion II follows.
(B) Neither I nor II follows.
(C) Both I and II follow.
(D) Only conclusion I follows
(E) Question not attempted

- | | |
|--|---|
| <p>16. निम्नलिखित में से कौन सा जोड़ा बेमेल (भिन्न) है ?</p> <p>(A) कुर्सी : फर्नीचर</p> <p>(B) गुलाब : फूल</p> <p>(C) केला : सेब</p> <p>(D) फ्रॉक : ड्रेस (पोशाक)</p> <p>(E) अनुत्तरित प्रश्न</p> | <p>16. Which of the following pairs is the odd one out ?</p> <p>(A) Chair : Furniture</p> <p>(B) Rose : Flower</p> <p>(C) Banana : Apple</p> <p>(D) Frock : Dress</p> <p>(E) Question not attempted</p> |
| <p>17. अंतर्राष्ट्रीय क्रिकेट के इतिहास में 600 छक्के लगाने वाले दुनिया के पहले बल्लेबाज कौन बने हैं ?</p> <p>(A) रोहित शर्मा (B) डेविड वार्नर</p> <p>(C) किंघटन डी कॉक (D) जोस बटलर</p> <p>(E) अनुत्तरित प्रश्न</p> | <p>17. Who has become the first batsman in the world to hit 600 sixes in the history of International Cricket ?</p> <p>(A) Rohit Sharma (B) David Warner</p> <p>(C) Quinton de Cock (D) Jos Buttler</p> <p>(E) Question not attempted</p> |
| <p>18. एक कूट (कोड) भाषा में, 'ENGLISH' को 'VMTORHS' लिखा जाता है। उसी भाषा में 'HINDI' को कैसे लिखा जाएगा ?</p> <p>(A) SRMWR (B) SRMVR</p> <p>(C) SROWR (D) SRNVR</p> <p>(E) अनुत्तरित प्रश्न</p> | <p>18. In a code language, 'ENGLISH' is written as 'VMTORHS'. How will 'HINDI' be written in the same language ?</p> <p>(A) SRMWR (B) SRMVR</p> <p>(C) SROWR (D) SRNVR</p> <p>(E) Question not attempted</p> |
| <p>19. 22 फरवरी 2025 तक राजस्थान के महाधिवक्ता कौन हैं ?</p> <p>(A) श्री एम.एस. सिंघवी</p> <p>(B) श्री एन.एम. लोढ़ा</p> <p>(C) श्री बी.पी. अग्रवाल</p> <p>(D) श्री राजेंद्र प्रसाद</p> <p>(E) अनुत्तरित प्रश्न</p> | <p>19. Who is the Advocate General of Rajasthan as on 22 Feb. 2025 ?</p> <p>(A) Sh. M.S. Singhvi</p> <p>(B) Sh. N.M. Lodha</p> <p>(C) Sh. B.P. Agarwal</p> <p>(D) Sh. Rajendra Prasad</p> <p>(E) Question not attempted</p> |
| <p>20. किसी जीन का वैकल्पिक रूप जो किसी एक लक्षण को नियंत्रित करता है, उसे कहते हैं :</p> <p>(A) प्रभावी (B) अप्रभावी</p> <p>(C) आनुवंशिकी (D) एलील</p> <p>(E) अनुत्तरित प्रश्न</p> | <p>20. The alternative form of a gene which controls any one character is called :</p> <p>(A) Dominance (B) Recessive</p> <p>(C) Genetics (D) Allele</p> <p>(E) Question not attempted</p> |
| <p>21. दी गई श्रृंखला में लुप्त संख्या x ज्ञात कीजिए :</p> <p>59, 68, 77, 83, 89, 92, x</p> <p>(A) 99 (B) 95</p> <p>(C) 98 (D) 97</p> <p>(E) अनुत्तरित प्रश्न</p> | <p>21. Find the missing number x in the given series :</p> <p>59, 68, 77, 83, 89, 92, x</p> <p>(A) 99 (B) 95</p> <p>(C) 98 (D) 97</p> <p>(E) Question not attempted</p> |

22. दी गई आकृति (X) का सही दर्पण प्रतिबिंब चुनें।



- (A) (B) (C) (D)

(E) अनुत्तरित प्रश्न

23. एक आदमी की ओर इशारा करते हुए सूरज ने कहा, “वह मेरी दादी की बेटी का इकलौता भाई है।” सूरज उस आदमी से किस तरह संबंधित है ?

- (A) बेटा (B) पिता
(C) भाई (D) चचेरा भाई
(E) अनुत्तरित प्रश्न

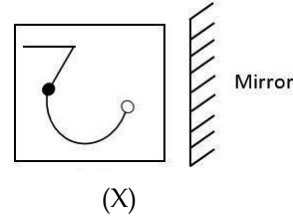
24. निम्नलिखित में से किसे “भारतीय संविधान का जनक” माना जाता है ?

- (A) डॉ. बी.आर. अंबेडकर
(B) जवाहर लाल नेहरू
(C) डॉ. के.एम. मुंशी
(D) महात्मा गांधी
(E) अनुत्तरित प्रश्न

25. अल्फा-न्यूमेरिक श्रृंखला में लुप्त पद ज्ञात करें :
E11X, H7V, ?, N3R, Q2P

- (A) K9S (B) I5T
(C) I9U (D) K5T
(E) अनुत्तरित प्रश्न

22. Choose the correct mirror image of the given figure (X).



- (A) (B) (C) (D)

(E) Question not attempted

23. Pointing to a man, Sooraj said, “He is the only brother of the daughter of my grandmother.” How is Sooraj related to the man ?

- (A) Son (B) Father
(C) Brother (D) Cousin
(E) Question not attempted

24. Who among the following is recognised as the “Father of the Indian Constitution” ?

- (A) Dr. B.R. Ambedkar
(B) Jawahar Lal Nehru
(C) Dr. K.M. Munshi
(D) Mahatma Gandhi
(E) Question not attempted

25. Find the missing term in the alpha-numeric series :
E11X, H7V, ?, N3R, Q2P

- (A) K9S (B) I5T
(C) I9U (D) K5T
(E) Question not attempted

26. निम्नलिखित में से कौन-सी सूची केवल जैव-निम्नीकरणीय अपशिष्टों की है ?
नीचे दिए गए विकल्पों में से **सबसे उपयुक्त** उत्तर चुनें।
(A) फलों और सब्जियों के छिलके, चमड़ा और सूती कपड़े, मवेशियों का गोबर और कृषि अपशिष्ट
(B) एल्युमिनियम फॉयल, PVC, अंडे के छिलके, सूखे पत्ते और कागज
(C) कांच के टुकड़े, चमड़ा, प्लास्टिक की बोतलें और कृषि अपशिष्ट
(D) प्लास्टिक की बोतलें, पका हुआ भोजन, घरेलू जैविक अपशिष्ट, कागज और कार्डबोर्ड
(E) अनुत्तरित प्रश्न
27. भरतपुर और अलवर क्षेत्र का प्रसिद्ध लोक नृत्य है :
(A) घूमर (B) गरबा
(C) भवाई नृत्य (D) बम नृत्य
(E) अनुत्तरित प्रश्न
28. निम्नलिखित श्रृंखला में प्रश्न चिह्न (?) के स्थान पर कौन सी संख्या आएगी ?
नीचे दिए गए विकल्पों में से चयन कीजिए।
3, 4, 6, 8, 12, 13, 24, ?, 48, 26
(A) 20 (B) 36
(C) 19 (D) 35
(E) अनुत्तरित प्रश्न
29. 1976 के किस संवैधानिक संशोधन अधिनियम द्वारा भारतीय संविधान की प्रस्तावना में 'धर्मनिरपेक्ष' शब्द जोड़ा गया था ?
(A) 42वां (B) 44वां
(C) 43वां (D) 41वां
(E) अनुत्तरित प्रश्न
30. भारत के संविधान सभा में _____ महिला सदस्य शामिल थीं।
(A) 7 (B) 10
(C) 15 (D) 5
(E) अनुत्तरित प्रश्न
31. उस नदी की पहचान करें जिस पर प्रसिद्ध चूलिया जलप्रपात स्थित है।
(A) सरस्वती (B) चंबल
(C) बेतवा (D) लूनी
(E) अनुत्तरित प्रश्न
26. Which of the following is a list of only biodegradable wastes ?
Choose the **most appropriate** answer from the options given below.
(A) Fruit and vegetable peels, leather and cotton clothes, cattle dung and agricultural waste
(B) Aluminium foil, PVC, egg shells, dried leaves and paper
(C) Glass pieces, leather, plastic bottles and agricultural wastes
(D) Plastic bottles, cooked food, household organic waste, paper and cardboard
(E) Question not attempted
27. The famous folk dance of the regions of Bharatpur and Alwar is the :
(A) Ghoomar (B) Garba
(C) Bhawai Dance (D) Bam Dance
(E) Question not attempted
28. What number should replace the question mark (?) in the following series ?
Choose from the options given below.
3, 4, 6, 8, 12, 13, 24, ?, 48, 26
(A) 20 (B) 36
(C) 19 (D) 35
(E) Question not attempted
29. On which Constitutional Amendment Act of 1976, the term 'secular' was added to the Preamble of the Indian Constitution ?
(A) 42nd (B) 44th
(C) 43rd (D) 41st
(E) Question not attempted
30. The Constituent Assembly of India included _____ women members.
(A) 7 (B) 10
(C) 15 (D) 5
(E) Question not attempted
31. Identify the river on which the famous Chuliya Waterfall is located.
(A) Saraswati (B) Chambal
(C) Betwa (D) Luni
(E) Question not attempted

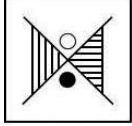
32. लच्छीराम किस लोक नाटक से संबंधित है ?
 (A) कुचामनी ख्याल (B) जयपुरी ख्याल
 (C) हेला ख्याल (D) शेखावाटी ख्याल
 (E) अनुत्तरित प्रश्न
33. निम्नलिखित श्रृंखला में प्रश्न चिह्न (?) के स्थान पर आने वाली संख्या का चयन करें :
 2, 5, 10, 17, 26, ?, 50
 (A) 38 (B) 39
 (C) 40 (D) 37
 (E) अनुत्तरित प्रश्न
34. झील में दूसरा ट्रॉफिक स्तर है :
 (A) मछलियाँ (फिशज़)
 (B) नितलक (बेन्थोस)
 (C) प्राणिप्लवक (ज़ोप्लांकटन)
 (D) पादपप्लवक (फाइटोप्लांकटन)
 (E) अनुत्तरित प्रश्न
35. निम्नलिखित श्रृंखला में प्रश्न चिह्न (?) के स्थान पर क्या आएगा ?
 M14P, PM14, 4PM1, ?
 (A) 14PM (B) 1MP4
 (C) 14MP (D) 1PM4
 (E) अनुत्तरित प्रश्न
36. निम्नलिखित में से कौन सा दर्पण/लेंस सौर भट्टियों, मशालों, सर्च लाइटों और वाहनों की हेडलाइट्स में उपयोग किया जाता है ?
 (A) अवतल दर्पण (B) समतल दर्पण
 (C) उत्तल लेंस (D) उत्तल दर्पण
 (E) अनुत्तरित प्रश्न
37. भारत की 20वीं पशुधन जनगणना के अनुसार, निम्नलिखित में से कौन सा राज्य पशुधन जनसंख्या के मामले में शीर्ष पर है ?
 (A) राजस्थान (B) मध्य प्रदेश
 (C) पश्चिम बंगाल (D) उत्तर प्रदेश
 (E) अनुत्तरित प्रश्न
32. Lachhiram/Lacchiram is related to which folk drama ?
 (A) Kuchamani Khyal (B) Jaipuri Khyal
 (C) Hela Khyal (D) Shekhawati Khyal
 (E) Question not attempted
33. Select the number that can replace the question mark (?) in the following series :
 2, 5, 10, 17, 26, ?, 50
 (A) 38 (B) 39
 (C) 40 (D) 37
 (E) Question not attempted
34. The second trophic level in a lake is :
 (A) Fishes
 (B) Benthos
 (C) Zooplankton
 (D) Phytoplankton
 (E) Question not attempted
35. What should come in place of question mark (?) in the following series ?
 M14P, PM14, 4PM1, ?
 (A) 14PM (B) 1MP4
 (C) 14MP (D) 1PM4
 (E) Question not attempted
36. Which of the following mirror/lens is used in solar furnaces, torches, search lights and headlights of vehicles ?
 (A) Concave Mirror (B) Plane Mirror
 (C) Convex Lens (D) Convex Mirror
 (E) Question not attempted
37. According to 20th livestock census of India, which of the following states is on the top of Livestock Population ?
 (A) Rajasthan (B) Madhya Pradesh
 (C) West Bengal (D) Uttar Pradesh
 (E) Question not attempted

38. संविधान के उल्लंघन के लिए राष्ट्रपति को पद से कैसे हटाया जा सकता है ?
नीचे दिए गए विकल्पों में से **सबसे उपयुक्त** उत्तर चुनें।
(A) प्रधानमंत्री द्वारा
(B) संसद और राज्य विधानमंडल के सदस्यों से मिलकर बने निर्वाचन मंडल द्वारा
(C) महाभियोग द्वारा
(D) अविश्वास प्रस्ताव द्वारा
(E) अनुत्तरित प्रश्न
39. 18वें 'प्रवासी भारतीय दिवस कन्वेंशन-2025' को कौन सा शहर आयोजित करेगा ?
(A) भोपाल (B) हैदराबाद
(C) चेन्नई (D) भुवनेश्वर
(E) अनुत्तरित प्रश्न
40. वर्ष 2023-24 में राजस्थान में तिलहन और गन्ने के उत्पादन के बारे में निम्नलिखित में से कौन सा कथन 2022-23 में उत्पादन की तुलना में सत्य है ?
नीचे दिए गए विकल्पों में से **सबसे उपयुक्त** उत्तर चुनें।
(A) 2023-24 में कुल तिलहन और गन्ने का उत्पादन बढ़ा।
(B) 2023-24 में कुल तिलहन और गन्ने का उत्पादन घटा।
(C) 2023-24 में कुल तिलहन उत्पादन में वृद्धि हुई जबकि गन्ने का उत्पादन घटा।
(D) 2023-24 में कुल तिलहन उत्पादन में कमी आई जबकि गन्ने का उत्पादन बढ़ा।
(E) अनुत्तरित प्रश्न
41. 2023-24 में राजस्थान निम्नलिखित में से किस प्रकार के तिलहन का अग्रणी उत्पादक था। निम्नलिखित में से पहचानें :
नीचे दिए गए विकल्पों में से **सबसे उपयुक्त** उत्तर चुनें।
(A) सरसों (B) अरंडी के बीज
(C) सोयाबीन (D) अलसी
(E) अनुत्तरित प्रश्न
42. निम्नलिखित में से कौन सा तत्वों को वर्गीकृत करने की श्रेणी नहीं है ?
(A) उपधातुएँ (B) धातुकर्म
(C) धातुएँ (D) अधातुएँ
(E) अनुत्तरित प्रश्न
38. For violation of the Constitution, the President may be removed from the office by :
Choose the **most appropriate** answer from the options given below.
(A) The Prime Minister
(B) The Electoral College consisting of members of Parliament and the State Legislature
(C) Impeachment
(D) A no-confidence vote
(E) Question not attempted
39. Which city is the host of the 18th 'Pravasi Bhartiya Divas Convention-2025' ?
(A) Bhopal (B) Hyderabad
(C) Chennai (D) Bhubaneswar
(E) Question not attempted
40. Which of the following statements is true about the production of oilseeds and sugarcane in Rajasthan for the year 2023-24, as compared to the production of 2022-23 ?
Choose the **most appropriate** answer from the options given below.
(A) Total oilseeds and sugarcane production increased in 2023-24.
(B) Total oilseeds and sugarcane production decreased in 2023-24.
(C) Total oilseeds production increased, while sugarcane production decreased in 2023-24.
(D) Total oilseeds production decreased while sugarcane production increased in 2023-24.
(E) Question not attempted
41. In 2023-24, Rajasthan was the leading producer of one of the following types of oilseeds. Identify from the following :
Choose the **most appropriate** answer from the options given below.
(A) Mustard (B) Castor seed
(C) Soya Bean (D) Linseed
(E) Question not attempted
42. Which of the following is **not** a category for classifying the elements ?
(A) Metalloids (B) Metallurgy
(C) Metals (D) Non-metals
(E) Question not attempted

43. राजस्थान में निम्नलिखित में से किस प्रकार की मिट्टी सबसे अधिक क्षेत्र में पाई जाती है ?
नीचे दिए गए विकल्पों में से **सबसे उपयुक्त** उत्तर चुनें।

(A) काली मिट्टी (B) लाल मिट्टी
(C) मरुस्थली (रेगिस्तानी) मिट्टी (D) जलोढ़ मिट्टी
(E) अनुत्तरित प्रश्न

44. दी गई आकृति (X) का सही जल प्रतिबिंब चुनें।

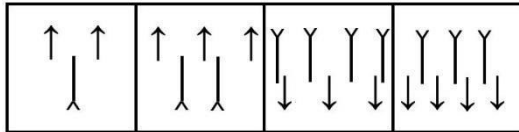


(X)

(A) (B)
(C) (D)

(E) अनुत्तरित प्रश्न

45. निम्नलिखित आकृतियों में से कौन सी आकृति बाकी से भिन्न है ?



(a) (b) (c) (d)

(A) (a) (B) (d)
(C) (c) (D) (b)
(E) अनुत्तरित प्रश्न

46. ए पी आई ओ (सहायक लोक सूचना अधिकारी) को सूचना के लिए आवेदन किसको अग्रपिहित करना होता है ?

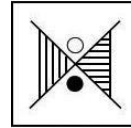
(A) लोक सूचना अधिकारी
(B) प्रथम अपीलीय प्राधिकारी
(C) द्वितीय अपीलीय प्राधिकारी
(D) प्राधिकरण का प्रमुख
(E) अनुत्तरित प्रश्न

43. Which of the following types of soil occupies the largest area in Rajasthan ?
Choose the **most appropriate** answer from the options given below.

(A) Black Soil (B) Red Soil
(C) Desert Soil (D) Alluvial Soil

(E) Question not attempted

44. Choose the correct water image of the given figure (X).

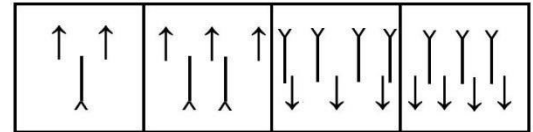


(X)

(A) (B)
(C) (D)

(E) Question not attempted

45. Amongst the following figures, which one is different from the rest ?



(a) (b) (c) (d)

(A) (a) (B) (d)
(C) (c) (D) (b)
(E) Question not attempted

46. APIO (Assistant Public Information Officer) has to forward application for information to :

(A) PIO (Public Information Officer)
(B) First Appellate Authority
(C) Second Appellate Authority
(D) The head of the Authority
(E) Question not attempted

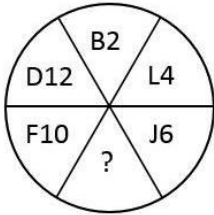
47. अशमित ने अपनी पत्नी रीमा का परिचय रीति से अपनी माँ के पति के बेटे सुमित की पत्नी के रूप में कराया। अशमित रीति से किस प्रकार संबंधित है ?

- (A) चाचा (B) भाई
(C) बहनोई (D) चचेरा भाई
(E) अनुत्तरित प्रश्न

48. पूजा मीरा की बेटी है। मीरा राजू की इकलौती बहन है जिसकी माँ मालती है। राकेश मालती का दामाद है। राकेश पूजा से इस प्रकार संबंधित है :

- (A) बहनोई (B) पिता
(C) चाचा (D) भाई
(E) अनुत्तरित प्रश्न

49. प्रश्न चिह्न का मान क्या है ?



- (A) K8 (B) H8
(C) H7 (D) H2
(E) अनुत्तरित प्रश्न

50. दिए गए प्रश्न में, चार विकल्पों में से तीन किसी तरह से समान हैं और एक भिन्न है। विषम (भिन्न) विकल्प को चुनें।

- (A) 91J (B) 37I
(C) 39L (D) 65K
(E) अनुत्तरित प्रश्न

51. राजस्थान सरकार की नवीनतम आर्थिक समीक्षा 2023-24 के अनुसार, वित्त वर्ष 2023-24 में राजस्थान की आय में कृषि क्षेत्र का योगदान कितना है ? नीचे दिए गए विकल्पों में से सबसे उपयुक्त उत्तर चुनें।

- (A) 26.72% (B) 22.60%
(C) 21.35% (D) 30.85%
(E) अनुत्तरित प्रश्न

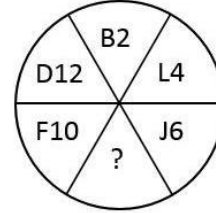
47. Ashmit introduced Riti as the wife of his mother's husband's son Sumit to his wife Reema. How is Ashmit related to Riti ?

- (A) Uncle (B) Brother
(C) Brother-in-law (D) Cousin
(E) Question not attempted

48. Pooja is the daughter of Meera. Meera is Raju's only sister whose mother is Malti. Malti's son-in-law is Rakesh. Rakesh is related to Pooja as :

- (A) Brother-in-law (B) Father
(C) Uncle (D) Brother
(E) Question not attempted

49. What is the value of question mark ?



- (A) K8 (B) H8
(C) H7 (D) H2
(E) Question not attempted

50. In the given question, three of the four given options are alike in some manner and one is different. Choose the odd one out.

- (A) 91J (B) 37I
(C) 39L (D) 65K
(E) Question not attempted

51. What is the Agricultural sector's contribution to Rajasthan's income in FY 2023-24, according to the latest Economic Review 2023-24 by the Government of Rajasthan ?

Choose the **most appropriate** answer from the options given below.

- (A) 26.72% (B) 22.60%
(C) 21.35% (D) 30.85%
(E) Question not attempted

52. एक कूट (कोड) भाषा में, 'ROCKET' को 'CROTKE' लिखा जाता है। उस भाषा में 'SEARCH' को कैसे लिखा जाएगा ?
- (A) ASECHR (B) ASECRH
(C) ASEHRC (D) ASEHCR
(E) अनुत्तरित प्रश्न
53. भारत का संविधान कब लागू हुआ ?
- (A) 15 अगस्त 1947 (B) 26 जनवरी 1950
(C) 2 अक्टूबर 1948 (D) 26 नवंबर 1949
(E) अनुत्तरित प्रश्न
54. RTI अधिनियम के निम्नलिखित प्रावधानों में से कौन सा अनुरोधकर्ताओं द्वारा प्रथम अपील के बारे में बताता है ?
- (A) धारा 7(5) (B) धारा 20(1)
(C) धारा 19(1) (D) धारा 8(1)
(E) अनुत्तरित प्रश्न
55. भरतपुर की जाट रियासत की स्थापना किसने की ?
- (A) सूरजमल (B) चूड़ामन
(C) राजाराम (D) बदन सिंह
(E) अनुत्तरित प्रश्न
56. नीचे दिए गए प्रश्न में एक कथन और उसके बाद I और II से अंकित दो धारणाएँ हैं। कथन को सत्य मानते हुए, तय कीजिए कि निम्नलिखित में से कौन सी धारणा/धारणाएँ निहित है/हैं ?
- कथन :**
केवल अच्छे नर्तकों को एक नृत्य समारोह में आमंत्रित किया गया था। लचीले शरीर के बिना कोई भी व्यक्ति अच्छा नर्तक नहीं हो सकता।
- धारणाएँ :**
- I. नृत्य समारोह में आमंत्रित सभी नर्तकों का शरीर लचीला था।
II. लचीले शरीर के बिना नर्तकों को नृत्य समारोह में आमंत्रित नहीं किया गया था।
- (A) केवल धारणा II निहित है।
(B) या तो I या II निहित है।
(C) I और II दोनों निहित हैं।
(D) केवल धारणा I निहित है।
(E) अनुत्तरित प्रश्न

52. In a code language, 'ROCKET' is written as 'CROTKE'. How will 'SEARCH' be written in that language ?
- (A) ASECHR (B) ASECRH
(C) ASEHRC (D) ASEHCR
(E) Question not attempted
53. The Constitution of India came into force on :
- (A) 15 August 1947 (B) 26 January 1950
(C) 2 October 1948 (D) 26 November 1949
(E) Question not attempted
54. Which one of the following provisions of the RTI Act elaborate on first appeals by requesters ?
- (A) Section 7(5) (B) Section 20(1)
(C) Section 19(1) (D) Section 8(1)
(E) Question not attempted
55. Who founded the Jat principality of Bharatpur ?
- (A) Surajmal (B) Churaman
(C) Rajaram (D) Badan Singh
(E) Question not attempted
56. The question given below consists of a statement followed by two assumptions numbered I and II. Considering the statement as true, decide which of the following assumption(s) is/are implicit ?
- STATEMENT :**
Only good dancers were invited to a dance festival. No one without a flexible body is a good dancer.
- ASSUMPTIONS :**
- I. All invited dancers in the dance festival had a flexible body.
II. Dancers without flexible body were not invited to the dance festival.
- (A) Only assumption II is implicit.
(B) Either I or II is implicit.
(C) Both I and II are implicit.
(D) Only assumption I is implicit.
(E) Question not attempted

57. पाकिस्तान के साथ राजस्थान की पश्चिमी सीमा को _____ के नाम से जाना जाता है।

- (A) डूरंड रेखा (B) कालापानी
(C) रेडक्लिफ (D) मैकमहोन रेखा
(E) अनुत्तरित प्रश्न

58. टंगस्टन एक खनिज है जिसका उपयोग बल्बों के फिलामेंट बनाने के लिए किया जाता है। राजस्थान में टंगस्टन अयस्क का एक प्रसिद्ध स्थान है:

नीचे दिए गए विकल्पों में से **सबसे उपयुक्त** उत्तर चुनें।

- (A) राजसमन्द – बामनिया
(B) भीलवाड़ा – रेवाना
(C) अजमेर – कायर
(D) नागौर – डेगाना
(E) अनुत्तरित प्रश्न

59. निम्नलिखित में से कौन सा राजस्थान परिवर्तन एवं नवाचार संस्थान (RITI) का उद्देश्य **नहीं** है ?

नीचे दिए गए विकल्पों में से **सबसे उपयुक्त** उत्तर चुनें।

- (A) राज्य में उपलब्ध विभिन्न प्रकार के संसाधनों (भौतिक, वित्तीय, जनशक्ति) का अनुमान लगाना।
(B) राज्य के संसाधनों का सर्वोत्तम उपयोग करने के लिए नीतिगत दिशानिर्देश तैयार करना।
(C) आम लोगों के जीवन स्तर में सुधार के लिए तंत्र विकसित करना।
(D) आईटी के क्षेत्र में छात्रों को प्रशिक्षण प्रदान करना।
(E) अनुत्तरित प्रश्न

60. किसी अप्रत्याशित व्यय को पूरा करने के लिए राज्य की आकस्मिक निधि से कौन अग्रिम राशि दे सकता है ?

- (A) मुख्यमंत्री (B) गृह मंत्री
(C) राज्यपाल (D) वित्त मंत्री
(E) अनुत्तरित प्रश्न

57. The western boundary of Rajasthan with Pakistan is known as _____.

- (A) Durand Line (B) Kalapani
(C) Radcliffe (D) McMahon Line
(E) Question not attempted

58. Tungsten is a mineral used for making the filament of bulbs. A famous location of tungsten ore in Rajasthan is :

Choose the **most appropriate** answer from the options given below.

- (A) Rajsamand – Bamania
(B) Bhilwara – Rewana
(C) Ajmer – Kayar
(D) Nagaur – Degana
(E) Question not attempted

59. Which of the following is **not** an objective of the Rajasthan Institute of Transformation and Innovation (RITI) ?

Choose the **most appropriate** answer from the options given below.

- (A) To estimate various types of resources available in the state (physical, financial, manpower).
(B) To prepare policy guidelines for making the best use of state resources.
(C) To develop mechanisms to improve the standard of living of common people.
(D) To provide training to students in the field of IT.
(E) Question not attempted

60. Who can make advances out of the Contingency Fund of the state to meet any unforeseen expenditure ?

- (A) Chief Minister (B) Home Minister
(C) Governor (D) Finance Minister
(E) Question not attempted

61. जोधपुर शहर की स्थापना किसने की ?
 (A) राव मालदेव (B) राव चूंडा
 (C) राव रावल (D) राव जोधा
 (E) अनुत्तरित प्रश्न

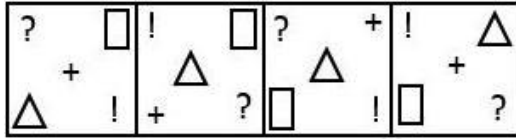
62. समवर्ती सूची का विचार _____ के संविधान से लिया गया है।

- (A) ऑस्ट्रेलिया (B) कनाडा
 (C) दक्षिण अफ्रीका (D) जर्मनी
 (E) अनुत्तरित प्रश्न

63. 2011 की जनगणना के अनुसार राजस्थान में सबसे अधिक जनसंख्या किस जिले की है ?

- (A) जालौर (B) जैसलमेर
 (C) जोधपुर (D) जयपुर
 (E) अनुत्तरित प्रश्न

64. चार विकल्प आकृतियों में से कौन सी आकृति तार्किक रूप से श्रृंखला को पूरा करने के लिए प्रश्न आकृति के दाईं ओर आएगी ?



(प्रश्न आकृति)

- (A) (B)
 (C) (D)

- (E) अनुत्तरित प्रश्न

65. निम्नलिखित श्रृंखला में लुप्त पद क्या है ?

630, 666, 691, 707, ?, 720

- (A) 712 (B) 708
 (C) 710 (D) 716
 (E) अनुत्तरित प्रश्न

61. Who founded the city of Jodhpur ?

- (A) Rao Maldeo (B) Rao Chunda
 (C) Rao Rawal (D) Rao Jodha
 (E) Question not attempted

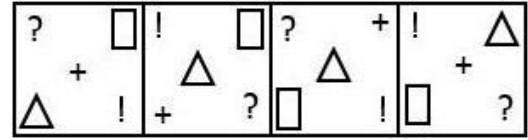
62. The idea of the Concurrent List has been taken from the Constitution of _____.

- (A) Australia (B) Canada
 (C) South Africa (D) Germany
 (E) Question not attempted

63. According to census 2011, which district has the highest population in Rajasthan ?

- (A) Jalore (B) Jaisalmer
 (C) Jodhpur (D) Jaipur
 (E) Question not attempted

64. Which one from the four option figures will come to the right of the problem figure to complete the series logically ?



(Problem figure)

- (A) (B)
 (C) (D)

- (E) Question not attempted

65. What is the missing term in the following series ?

630, 666, 691, 707, ?, 720

- (A) 712 (B) 708
 (C) 710 (D) 716
 (E) Question not attempted

66. किस राज्य ने मजदूरों और फुटपाथ विक्रेताओं के लिए 'मुख्यमंत्री विश्वकर्मा पेंशन योजना' नवम्बर 2024 में शुरू करने की घोषणा की है ?

- (A) गुजरात (B) महाराष्ट्र
(C) राजस्थान (D) दिल्ली
(E) अनुत्तरित प्रश्न

67. राजस्थान के उत्तर में दो राज्य हैं :
नीचे दिए गए विकल्पों में से **सबसे उपयुक्त** उत्तर चुनें।

- (A) हरियाणा और उत्तर प्रदेश
(B) पंजाब और हरियाणा
(C) हरियाणा और गुजरात
(D) उत्तर प्रदेश और पंजाब
(E) अनुत्तरित प्रश्न

68. राजस्थान में सीमा क्षेत्र विकास कार्यक्रम (बीएडीपी) कहाँ लागू **नहीं** किया जा रहा है ?
नीचे दिए गए विकल्पों में से **सबसे उपयुक्त** उत्तर चुनें।

- (A) श्रीगंगानगर (B) जैसलमेर
(C) बाड़मेर (D) अलवर
(E) अनुत्तरित प्रश्न

69. दिए गए प्रश्न में दो निष्कर्ष (I और II) दिए गए हैं, जिनके पहले एक कथन दिया गया है। कथन में दी गई जानकारी को सत्य मानते हुए, किसी उचित संदेह से परे तार्किक रूप से निकाले गए निष्कर्ष का चयन करें।

कथन :

कड़ी मेहनत सफलता की कुंजी है।

निष्कर्ष :

- I. सभी सफल लोग मेहनती होते हैं।
II. स्मार्ट वर्क विफलता की ओर ले जाता है।

- (A) केवल निष्कर्ष II अनुसरण करता है।
(B) न तो I और न ही II अनुसरण करता है।
(C) I और II दोनों अनुसरण करते हैं।
(D) केवल निष्कर्ष I अनुसरण करता है।
(E) अनुत्तरित प्रश्न

66. Which state has made the announcement to launch 'Mukhyamantri Vishwakarma Pension Scheme' in November 2024 for laborers and street vendors ?

- (A) Gujarat (B) Maharashtra
(C) Rajasthan (D) Delhi
(E) Question not attempted

67. The two states to the North of Rajasthan are :
Choose the **most appropriate** answer from the options given below.

- (A) Haryana and Uttar Pradesh
(B) Punjab and Haryana
(C) Haryana and Gujarat
(D) Uttar Pradesh and Punjab
(E) Question not attempted

68. In Rajasthan, the Border Area Development Programme (BADP) is NOT being implemented in :

Choose the **most appropriate** answer from the options given below.

- (A) Sriganganagar (B) Jaisalmer
(C) Barmer (D) Alwar
(E) Question not attempted

69. In the given question, two conclusions (I and II) are followed by a statement. Assume the information given in the statement to be true, select a logically drawn conclusion beyond a reasonable doubt.

STATEMENT :

Hard work is a key to success.

CONCLUSIONS :

- I. All successful people are hardworking.
II. Smart work leads to failure.

- (A) Only conclusion II follows.
(B) Neither I nor II follows.
(C) Both I and II follow.
(D) Only conclusion I follows.
(E) Question not attempted

- | | |
|---|---|
| <p>70. शाकंभरी के चौहान वंश के शासक का नाम बताइए, जिसे 'कविबांधव' की उपाधि दी गई थी।</p> <p>(A) अजयराज (B) विग्रहराज चतुर्थ</p> <p>(C) पृथ्वीराज तृतीय (D) अर्णोराज</p> <p>(E) अनुत्तरित प्रश्न</p> | <p>70. Name the ruler of the Chauhan dynasty of Shakambhari, who was given the title of 'Kavibandhava'.</p> <p>(A) Ajayraj (B) Vighraharaj IV</p> <p>(C) Prithviraj III (D) Arnoraj</p> <p>(E) Question not attempted</p> |
| <p>71. राजस्थान पुलिस में आरएसी (RAC) क्या है ?</p> <p>(A) रामगढ़ सशस्त्र कांस्टेबुलरी</p> <p>(B) राजगढ़ सशस्त्र कांस्टेबुलरी</p> <p>(C) आरक्षित सशस्त्र कांस्टेबुलरी</p> <p>(D) राजस्थान सशस्त्र कांस्टेबुलरी</p> <p>(E) अनुत्तरित प्रश्न</p> | <p>71. What is RAC in Rajasthan Police ?</p> <p>(A) Ramgarh Armed Constabulary</p> <p>(B) Rajgarh Armed Constabulary</p> <p>(C) Reserved Armed Constabulary</p> <p>(D) Rajasthan Armed Constabulary</p> <p>(E) Question not attempted</p> |
| <p>72. निम्नलिखित में से कौन सा कोयला जलने की प्रक्रिया के उप-उत्पाद के रूप में थर्मल पावर प्लांट द्वारा उत्सर्जित होता है, जिसके परिणामस्वरूप वायु प्रदूषण होता है ?</p> <p>नीचे दिए गए विकल्पों में से सबसे उपयुक्त उत्तर चुनें।</p> <p>(A) टेट्राएथिल लेड (B) धूल</p> <p>(C) फ्लाई ऐश (D) लोहे के ऑक्साइड</p> <p>(E) अनुत्तरित प्रश्न</p> | <p>72. Which of the following is ejected mostly by thermal power plants as by-product of coal burning processes which results in air pollution ?</p> <p>Choose the most appropriate answer from the options given below.</p> <p>(A) Tetraethyl Lead (B) Dust</p> <p>(C) Fly Ash (D) Oxides of iron</p> <p>(E) Question not attempted</p> |
| <p>73. वह विकल्प चुनें जो अन्य तीन विकल्पों से भिन्न है :</p> <p>(A) समलम्ब चतुर्भुज (B) पंचभुज</p> <p>(C) आयत (D) समचतुर्भुज</p> <p>(E) अनुत्तरित प्रश्न</p> | <p>73. Select the one which is different from other three alternatives :</p> <p>(A) Trapezium (B) Pentagon</p> <p>(C) Rectangle (D) Rhombus</p> <p>(E) Question not attempted</p> |
| <p>74. फड़ कलाकार श्रीलाल जोशी का संबंध है :</p> <p>(A) बीकानेर (B) जोधपुर</p> <p>(C) भीलवाड़ा (D) चूरू</p> <p>(E) अनुत्तरित प्रश्न</p> | <p>74. The Phad artist Shrilal Joshi belongs to :</p> <p>(A) Bikaner (B) Jodhpur</p> <p>(C) Bhilwara (D) Churu</p> <p>(E) Question not attempted</p> |

75. जयपुर, दौसा और अजमेर राजस्थान के किस कृषि जलवायु क्षेत्र में आते हैं ?

नीचे दिए गए विकल्पों में से **सबसे उपयुक्त** उत्तर चुनें।

- (A) नमी वाले दक्षिणी मैदान
- (B) उप-नमी वाले दक्षिणी मैदान
- (C) अर्द्ध-शुष्क पूर्वी मैदान
- (D) बाढ़ प्रवण पूर्वी मैदान
- (E) अनुत्तरित प्रश्न

76. नीचे दिए गए प्रश्न में एक कथन के बाद दो निष्कर्ष (I और II) दिए गए हैं। कथन को सत्य मानते हुए, तय करें कि उनमें से कौन सा निष्कर्ष कथन में दी गई जानकारी से उचित संदेह से परे तार्किक रूप से अनुसरण करता है ?

कथन :

कोविड महामारी ने तबाही मचाई और दुनिया भर में मौजूदा चिकित्सा बुनियादी ढांचे की दुखद वास्तविकता को उजागर किया।

निष्कर्ष :

- I. दुनिया भर में महामारी के बाद चिकित्सा बुनियादी ढांचे में सुधार हुआ।
- II. महामारी से निपटने के लिए परिष्कृत और मजबूत चिकित्सा सुविधाओं की आवश्यकता थी।

- (A) केवल II अनुसरण करता है।
- (B) न तो I और न ही II अनुसरण करता है।
- (C) I और II दोनों अनुसरण करते हैं।
- (D) केवल I अनुसरण करता है।
- (E) अनुत्तरित प्रश्न

75. In which agroclimatic region of Rajasthan; Jaipur, Dausa and Ajmer are included ?

Choose the **most appropriate** answer from the options given below.

- (A) Humid Southern Plain
- (B) Sub-humid Southern Plain
- (C) Semi-arid Eastern Plain
- (D) Flood prone Eastern Plain
- (E) Question not attempted

76. In the question, given below is a statement followed by two conclusions (I and II). Assume the statement to be true, decide which of them logically follows beyond a reasonable doubt from the information given in the statement ?

STATEMENT :

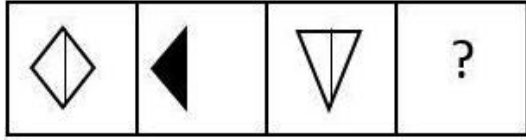
The covid pandemic created mayhem and exposed the sad reality of existing medical infrastructure worldwide.

CONCLUSIONS :

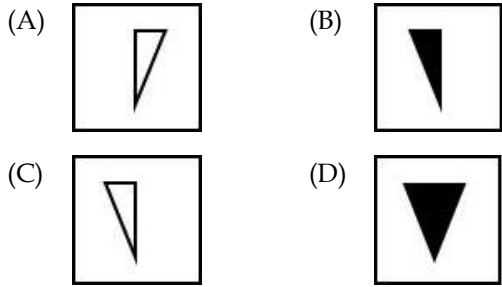
- I. Medical infrastructure was improved after the pandemic worldwide.
- II. Dealing with the pandemic required sophisticated as well as sturdy medical facilities.

- (A) Only II follows.
- (B) Neither I nor II follows.
- (C) Both I and II follow.
- (D) Only I follows.
- (E) Question not attempted

77. आकृति (a) और (b) के बीच एक निश्चित संबंध है। निम्नलिखित विकल्पों में से उपयुक्त आकृति का चयन करके आकृति (c) और (d) के बीच समान संबंध स्थापित करें जो आकृति (d) में प्रश्न चिह्न (?) को प्रतिस्थापित करती है।

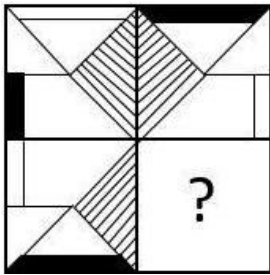


(a) (b) (c) (d)

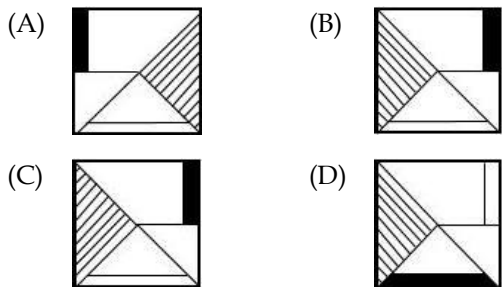


(E) अनुत्तरित प्रश्न

78. निम्नलिखित में से कौन सी आकृति को आकृति (X) के रिक्त स्थान में रखने पर पैटर्न पूरा होगा ?

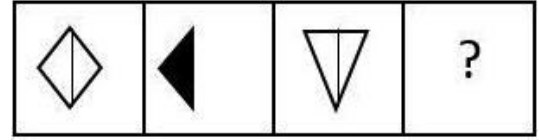


(X)

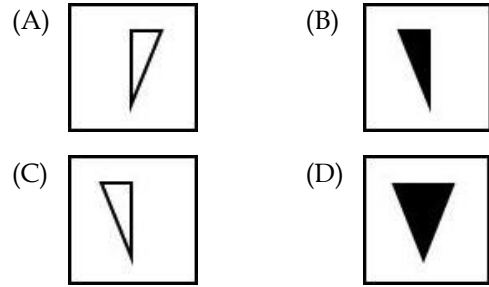


(E) अनुत्तरित प्रश्न

77. There is a definite relationship between figures (a) and (b). Establish a similar relationship between figures (c) and (d) by selecting a suitable figure from the following options that replaces the question mark (?) in figure (d).

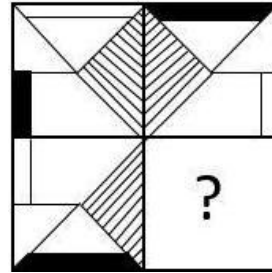


(a) (b) (c) (d)

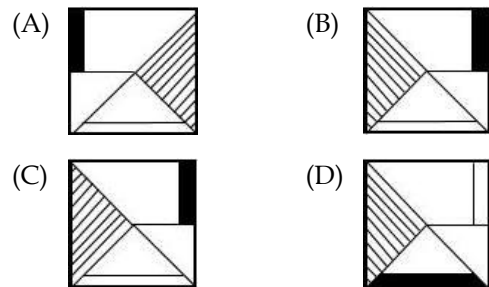


(E) Question not attempted

78. Which of the following figures when placed in the blank space of fig. (X) would complete the pattern ?



(X)



(E) Question not attempted

79. नीचे दिए गए प्रश्न में, एक कथन के बाद दो कार्यवाही के तरीके (I और II) दिए गए हैं। कथन को एक तथ्य मानें, तय करें कि सुझाए गए कार्यवाही के कौन से तरीके तार्किक रूप से इसका अनुसरण करते हैं ?

कथन :

एक राज्य में, यह देखा गया है कि कम उम्र में विवाह के कारण प्रसव के दौरान महिला मृत्यु दर में वृद्धि हो रही है।

कार्यवाही के तरीके :

- I. डॉक्टरों या दाइयों को कम उम्र की महिलाओं का प्रसव कराने से बचना चाहिए।
- II. सरकार को कम उम्र की गर्भवती माताओं को आर्थिक मदद देनी चाहिए।

- (A) केवल II अनुसरण करता है।
- (B) न तो I और न ही II अनुसरण करता है।
- (C) I और II दोनों अनुसरण करते हैं।
- (D) केवल I अनुसरण करता है।
- (E) अनुत्तरित प्रश्न

80. जिला आपदा प्रबंधन प्राधिकरण (डी डी एम ए) का नेतृत्व कौन करता है ?

- (A) खंड विकास अधिकारी
- (B) राज्य के मुख्य सचिव
- (C) एम एल ए
- (D) जिला अधिकारी
- (E) अनुत्तरित प्रश्न

79. In the question below, there is a statement followed by two courses of action (I and II). Consider the statement to be a fact, decide which of the suggested courses of action logically follow it ?

STATEMENT :

In a state, it has been observed that there is an increasing rate of female mortality during child birth because of early marriages.

COURSES OF ACTION :

- I. Doctors or midwives should refrain from conducting child deliveries of the underage females.
- II. The government should provide monetary help to the underage expecting mothers.

- (A) Only II follows.
- (B) Neither I nor II follows.
- (C) Both I and II follow.
- (D) Only I follows.
- (E) Question not attempted

80. The District Disaster Management Authority (DDMA) is headed by :

- (A) Block Development Officer
- (B) Chief Secretary of State
- (C) MLA
- (D) District Magistrate
- (E) Question not attempted

81. नीचे दिए गए प्रश्न में, एक कथन के बाद दो धारणाएँ I और II दी गई हैं। कथन को सत्य मानते हुए, तय करें कि कौन सी धारणा/धारणाएँ निहित है/हैं ?

कथन :

पुलिस प्रशासन ने रैली ग्राउंड के चारों ओर वेंट्रिकुलर मूवमेंट को रोक दिया, जहाँ समर्थकों की बड़ी आमद के कारण एक नेता द्वारा सार्वजनिक बैठक आयोजित की जानी थी।

धारणाएँ :

- I. नेता जनता के बीच बहुत लोकप्रिय है।
II. नेता आगामी चुनाव जीतेगा।
(A) केवल धारणा II निहित है।
(B) न तो I और न ही II निहित है।
(C) I और II दोनों निहित हैं।
(D) केवल धारणा I निहित है।
(E) अनुत्तरित प्रश्न

82. यदि 'गुलाब' को 'सूरजमुखी', 'सूरजमुखी' को 'कमल', 'कमल' को 'चमेली' और 'चमेली' को 'लिली' के नाम से जाना जाता है, तो भारत के राष्ट्रीय फूल का नाम क्या होगा ?

- (A) लिली (B) चमेली
(C) सूरजमुखी (D) कमल
(E) अनुत्तरित प्रश्न

83. बनी-ठनी राजस्थान की किस चित्रकला शैली से संबंधित है ?

- (A) मारवाड़ (B) किशनगढ़
(C) बीकानेर (D) कोटा
(E) अनुत्तरित प्रश्न

81. In the question given below, a statement is followed by two assumptions I and II. Considering the statement as true, decide which of the assumption(s) is/are implicit ?

STATEMENT :

The police administration blocked ventricular movements around the rally ground where a public meeting is to be held by a leader due to the large inflow of supporters.

ASSUMPTIONS :

- I. The leader is very popular among the public.
II. The leader will win the upcoming election.
(A) Only assumption II is implicit.
(B) Neither I nor II is implicit.
(C) Both I and II are implicit.
(D) Only assumption I is implicit.
(E) Question not attempted

82. If 'Rose' is known as 'Sunflower', 'Sunflower' is known as 'Lotus', 'Lotus' is known as 'Jasmine' and 'Jasmine' is known as 'Lily', then what would be the name of Indian National Flower ?

- (A) Lily (B) Jasmine
(C) Sunflower (D) Lotus
(E) Question not attempted

83. Bani-Thani is associated with which school of painting of Rajasthan ?

- (A) Marwar (B) Kishangarh
(C) Bikaner (D) Kota
(E) Question not attempted

84. राजस्थान उच्च न्यायालय की पीठ _____ में है।

- (A) चित्तौड़गढ़ (B) जैसलमेर
(C) जयपुर (D) हनुमानगढ़
(E) अनुत्तरित प्रश्न

85. चार उत्तर आकृतियों में से कौन सी आकृति तार्किक रूप से श्रृंखला को पूरा करने के लिए प्रश्न आकृति के दाईं ओर आएगी ?



- (A) (B)
(C) (D)
(E) अनुत्तरित प्रश्न

86. निम्नलिखित प्रश्न में, एक कथन के बाद I और II क्रमांकित कार्यवाही के तरीके दिए गए हैं। कथन को सत्य मानते हुए, तय करें कि कौन सा/से कार्यवाही के तरीके तार्किक रूप से अनुसरण करेगी ?

कथन :

पूरे देश में फर्जी कॉल के माध्यम से साइबर अपराध में तेजी से वृद्धि हुई है, जिससे नागरिकों को आर्थिक नुकसान हो रहा है।

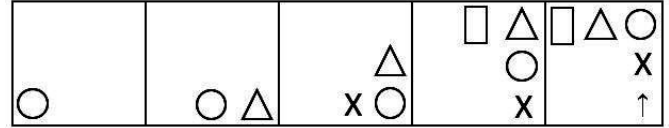
कार्यवाही के तरीके :

- I. लोगों को स्मार्ट फोन खरीदने से हतोत्साहित किया जाना चाहिए।
II. सेवा प्रदाताओं को संदिग्ध कॉल करने वालों से कॉल को चिह्नित करने के लिए कहा जाना चाहिए।
(A) केवल II अनुसरण करता है।
(B) या तो I या II अनुसरण करता है।
(C) न तो I और न ही II अनुसरण करता है।
(D) केवल I अनुसरण करता है।
(E) अनुत्तरित प्रश्न

84. The High Court of Rajasthan has its bench at _____.

- (A) Chittorgarh (B) Jaisalmer
(C) Jaipur (D) Hanumangarh
(E) Question not attempted

85. Which one from the four answer figures will come to the right of the problem figure to complete the series logically ?



- (A) (B)
(C) (D)
(E) Question not attempted

86. In the following question, there is a statement followed by courses of action numbered I and II. Assuming the statement as true, decide which course(s) of action would logically follow ?

STATEMENT :

There has been a rapid rise in cybercrime through fake calls all over the country causing monetary losses to citizens.

COURSES OF ACTION :

- I. People should be discouraged from buying smart phones.
II. The service providers should be asked to flag the calls from dubious callers.
(A) Only II follows.
(B) Either I or II follow.
(C) Neither I nor II follows.
(D) Only I follows.
(E) Question not attempted

87. जब अधातुएँ ऑक्सीजन के साथ प्रतिक्रिया करती हैं, तो _____ नहीं बनते हैं।

- (A) धातु ऑक्साइड (B) अधातु ऑक्साइड
(C) कार्बन डाइऑक्साइड (D) जल
(E) अनुत्तरित प्रश्न

88. नीचे दिए गए कथन में दी गई सभी बातों को सत्य मानते हुए, तय करें कि निम्नलिखित में से कौन सी कार्यवाही के तरीके तार्किक रूप से सही है ?

कथन :

सड़क दुर्घटनाओं और वाहनों द्वारा अधिक गति से वाहन चलाने के बीच एक मजबूत संबंध पाया गया है, जिससे बड़ी संख्या में लोग हताहत होते हैं।

कार्यवाही के तरीके :

- I. सरकार को ऑटोमोबाइल कंपनियों को वाहनों में एक उपकरण लगाने का निर्देश देना चाहिए, जिससे वाहनों की गति स्वचालित रूप से 50 किमी/घंटा तक सीमित हो जाए।
II. सड़कों पर स्पीड कैमरे लगाना और उल्लंघन करने वालों पर भारी चालान लगाना।

- (A) केवल II अनुसरण करता है।
(B) न तो I और न ही II अनुसरण करता है।
(C) I और II दोनों अनुसरण करते हैं।
(D) केवल I अनुसरण करता है।
(E) अनुत्तरित प्रश्न

89. भौतिक परिवर्तन के बारे में निम्नलिखित में से कौन सा कथन सही है ?

- (A) उन्हें आसानी से उलटा नहीं किया जा सकता है।
(B) भौतिक गुण जैसे आकृति, आमाप / आकार, रंग अथवा अवस्था नहीं बदलते।
(C) एक या एक से अधिक नए पदार्थ बनते हैं।
(D) पदार्थ की रासायनिक संरचना अपरिवर्तित रहती है।
(E) अनुत्तरित प्रश्न

87. When non-metals react with oxygen, _____ is/are NOT formed.

- (A) Metal oxides (B) Non-metal oxides
(C) Carbon dioxide (D) Water
(E) Question not attempted

88. Assuming everything in the statement given below to be true, decide which of the following courses of action logically follow(s) ?

STATEMENT :

A strong correlation has been found between the road accidents and over-speeding by the vehicles causing large number of casualties.

COURSES OF ACTION :

- I. The government should direct the automobile companies to install a device in the vehicles to automatically limit the speed at 50 km/h.
II. Installation of speed cameras on the roads and imposition of heavy challans on offenders.

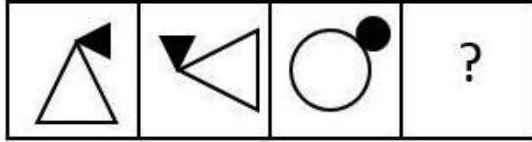
- (A) Only II follows.
(B) Neither I nor II follows.
(C) Both I and II follow.
(D) Only I follows.
(E) Question not attempted

89. Which of the following statements is correct about a physical change ?

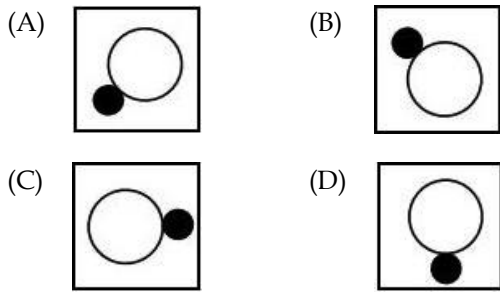
- (A) They cannot be reversed easily.
(B) The physical properties like shape, size, colour or state are not changed.
(C) One or more new substances are formed.
(D) The chemical composition of substance remains unchanged.
(E) Question not attempted

90. RTI अधिनियम की धारा 19 की उपधारा (3) के तहत दूसरी अपील दायर करने की समय सीमा है :
- (A) FAA के निर्णय की प्राप्ति से 90 दिन
- (B) FAA के निर्णय की प्राप्ति से 40 दिन
- (C) FAA के निर्णय की प्राप्ति से 30 दिन
- (D) FAA के निर्णय की प्राप्ति से 10 दिन
- (E) अनुत्तरित प्रश्न
91. निम्न प्रश्न में एक कथन और उसके बाद दो तर्क I और II दिए गए हैं। निर्णय कीजिए कि निम्न में से कौन सा/से तर्क मजबूत है/हैं ?
- कथन :**
- क्या प्राथमिक विद्यालय की कैंटीन में वातित पेय पर प्रतिबंध लगाया जाना चाहिए ?
- तर्क :**
- I. हाँ। यह बच्चों के स्वास्थ्य पर प्रतिकूल प्रभाव डालता है।
- II. नहीं। यह छात्रों को तय करना है कि उन्हें वातित पेय खरीदना है या नहीं।
- (A) केवल तर्क II मजबूत है।
- (B) या तो I या II मजबूत है।
- (C) I और II दोनों मजबूत हैं।
- (D) केवल तर्क I मजबूत है।
- (E) अनुत्तरित प्रश्न
90. Time limit for filing second appeal under Sub-section (3) of Section 19 of the RTI Act is :
- (A) 90 days from the receipt of FAA's decision
- (B) 40 days from the receipt of FAA's decision
- (C) 30 days from the receipt of FAA's decision
- (D) 10 days from the receipt of FAA's decision
- (E) Question not attempted
91. The question given below consists of a statement followed by two arguments I and II. Decide which of the argument(s) is/are strong ?
- STATEMENT :**
- Should aerated drinks be banned in primary school canteens ?
- ARGUMENTS :**
- I. Yes. It adversely affects the health of kids.
- II. No. It's for the students to decide whether to buy the aerated drinks or not.
- (A) Only argument II is strong
- (B) Either I or II is strong
- (C) Both I and II are strong
- (D) Only argument I is strong
- (E) Question not attempted

92. आकृति (a) और (b) के बीच एक निश्चित संबंध है। दिए गए विकल्पों में से एक उपयुक्त आकृति का चयन करके आकृति (c) और (d) के बीच एक समान संबंध स्थापित करें जो आकृति (d) में प्रश्न चिह्न (?) को प्रतिस्थापित करती है।



(a) (b) (c) (d)



(E) अनुत्तरित प्रश्न

93. राजस्थान के किस इतिहासकार एवं पुरातत्ववेत्ता ने प्रसिद्ध ग्रन्थ 'लिपिमाला' लिखा है ?

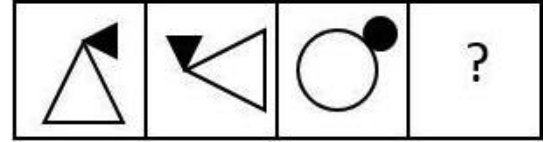
- (A) दयालदास
(B) कविराज श्यामल दास
(C) गौरीशंकर हीराचंद ओझा
(D) बावजी चतुर सिंह
(E) अनुत्तरित प्रश्न

94. नीचे दी गई अक्षर श्रृंखला में आगे क्या आना चाहिए ?

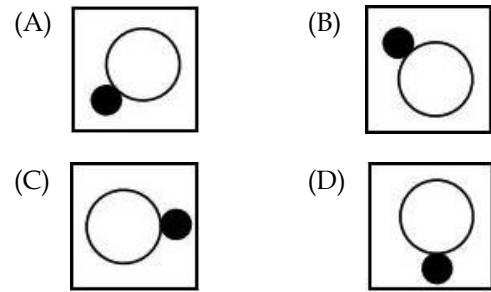
ZP, YO, XN, WM, ____

- (A) VP (B) ZP
(C) VL (D) ZL
(E) अनुत्तरित प्रश्न

92. There is a definite relationship between figures (a) and (b). Establish a similar relationship between (c) and (d) by selecting a suitable figure from the given options that replaces the question mark (?) in fig. (d).



(a) (b) (c) (d)



(E) Question not attempted

93. Which historian and archaeologist of Rajasthan wrote the famous text 'Lipimala' ?

- (A) Dayaldas
(B) Kaviraj Shyamal Das
(C) Gaurishankar Heerachand Ojha
(D) Bavji Chatur Singh
(E) Question not attempted

94. What should come next in the letter series given below ?

ZP, YO, XN, WM, ____

- (A) VP (B) ZP
(C) VL (D) ZL
(E) Question not attempted

95. दिए गए शब्दों के जोड़े में एक को छोड़कर एक सामान्य संबंध है। बेमेल (भिन्न) का चयन कीजिए।

- (A) शराब : अंगूर (B) बेल्ट : चमड़ा
(C) सोना : चांदी (D) कागज़ : लकड़ी

(E) अनुत्तरित प्रश्न

96. 18 अप्रैल 2024 को 'विश्व धरोहर दिवस' के अवसर पर 'जयपुर वैक्स म्यूजियम' में किसकी प्रतिमा का अनावरण किया गया ?

- (A) लता मंगेशकर (B) नरेंद्र मोदी
(C) विराट कोहली (D) सचिन तेंदुलकर
(E) अनुत्तरित प्रश्न

97. स्वर्णिम चतुर्भुज परियोजना के तहत राजस्थान में निम्नलिखित में से किस राष्ट्रीय राजमार्ग को जयपुर से अजमेर तक 6 लेन में परिवर्तित किया गया है ? निम्नलिखित विकल्पों में से सबसे उपयुक्त उत्तर चुनें।

- (A) राष्ट्रीय राजमार्ग संख्या 14
(B) राष्ट्रीय राजमार्ग संख्या 8
(C) राष्ट्रीय राजमार्ग संख्या 3
(D) राष्ट्रीय राजमार्ग संख्या 11
(E) अनुत्तरित प्रश्न

98. "विश्व पर्यावरण दिवस" कब मनाया जाता है ?

- (A) 5 जून (B) 6 जून
(C) 14 अगस्त (D) 15 अगस्त
(E) अनुत्तरित प्रश्न

99. निम्नलिखित में से कौन सी आकृति, आकृति (X) में दिए गए पैटर्न में निहित है ?



(X)

- (A) (B)
(C) (D)
(E) अनुत्तरित प्रश्न

95. The given pair of words share a common relationship except one. Choose the odd one out.

- (A) Wine : Grapes (B) Belt : Leather
(C) Gold : Silver (D) Paper : Wood

(E) Question not attempted

96. Whose statue was unveiled in 'Jaipur Wax Museum' on the occasion of 'World Heritage Day' on 18th April 2024 ?

- (A) Lata Mangeshkar (B) Narendra Modi
(C) Virat Kohli (D) Sachin Tendulkar
(E) Question not attempted

97. Which of the following National Highways in Rajasthan has been converted into 6 lane from Jaipur to Ajmer under Golden Quadrilateral Project ?

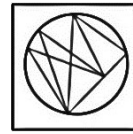
Choose the **most appropriate** answer from the following options.

- (A) National Highway number 14
(B) National Highway number 8
(C) National Highway number 3
(D) National Highway number 11
(E) Question not attempted

98. When is "World Environment Day" celebrated ?

- (A) 5th June (B) 6th June
(C) 14th August (D) 15th August
(E) Question not attempted

99. Which of the following figure is embedded in the pattern given in fig. (X) ?



(X)

- (A) (B)
(C) (D)
(E) Question not attempted

100. नीचे दिए गए प्रश्न में एक कथन के बाद दो तर्क I और II दिए गए हैं। तय करें कि कौन सा/से तर्क मजबूत है/हैं ?

कथन :

क्या भारत जैसे देश में केवल दो राजनीतिक दल होने चाहिए ?

तर्क :

- I. हाँ। इससे चुनाव प्रक्रिया आसान हो जाएगी।
- II. नहीं। भारत जैसे देश में जहाँ कई क्षेत्रीय आकांक्षाएँ हैं, क्षेत्रीय दलों की भी आवश्यकता है।

- (A) केवल तर्क II मजबूत है।
- (B) न तो I और न ही II मजबूत है।
- (C) I और II दोनों मजबूत हैं।
- (D) केवल तर्क I मजबूत है।
- (E) अनुत्तरित प्रश्न

100. The question given below consists of a statement followed by two arguments I and II. Decide which of the argument(s) is/are strong ?

STATEMENT :

Should there be only two political parties in a country like India ?

ARGUMENTS :

- I. Yes. It will make the election process easier.
- II. No. In a country like India where there are several regional aspirations, regional parties are also required.

- (A) Only argument II is strong.
- (B) Neither I nor II is strong.
- (C) Both I and II are strong.
- (D) Only argument I is strong.
- (E) Question not attempted

- o O o -

SPACE FOR ROUGH WORK / रफ कार्य के लिए स्थान

उत्तर पत्रक में दो प्रतियाँ हैं - मूल प्रति और द्वितीय प्रति, परीक्षा समाप्ति पर परीक्षा कक्ष छोड़ने से पूर्व परीक्षार्थी उत्तर पत्रक की दोनों प्रतियाँ वीक्षक को सौंपेंगे, परीक्षार्थी स्वयं द्वितीय प्रति को अलग नहीं करें। वीक्षक द्वारा उत्तर पत्रक की मूल प्रति को अपने पास जमा कर, द्वितीय प्रति को मूल प्रति से कट लाइन से मोड़ कर सावधानीपूर्वक अलग कर परीक्षार्थी को सौंपेंगे। परीक्षार्थी द्वितीय प्रति को अपने साथ ले जायेंगे।

परीक्षा का नाम एवं कोड: प्रहरी सीधी भर्ती-2024 (द्वितीय चरण), AX11

परीक्षा की दिनांक: 12-04-2025

प्रारम्भिक उत्तर कुंजी

प्रश्न की क्रम संख्या	सही उत्तर का विकल्प संख्या
1	B
2	D
3	D
4	B
5	B
6	A
7	B
8	D
9	C
10	B
11	A
12	C
13	C
14	B
15	C
16	D
17	D
18	B
19	D
20	A
21	D
22	D
23	B
24	B
25	C

प्रश्न की क्रम संख्या	सही उत्तर का विकल्प संख्या
26	C
27	A
28	C
29	C
30	A
31	B
32	C
33	A
34	B
35	C
36	B
37	D
38	C
39	A
40	B
41	C
42	B
43	B
44	A
45	D
46	B
47	C
48	D
49	C
50	B

प्रश्न की क्रम संख्या	सही उत्तर का विकल्प संख्या
51	D
52	C
53	C
54	B
55	D
56	A
57	B
58	A
59	A
60	B
61	D
62	C
63	B
64	A
65	D
66	A
67	A
68	B
69	B
70	D
71	A
72	B
73	D
74	C
75	A

प्रश्न की क्रम संख्या	सही उत्तर का विकल्प संख्या
76	C
77	B
78	A
79	B
80	D
81	B
82	D
83	B
84	C
85	B
86	D
87	B
88	D
89	A
90	B
91	A
92	D
93	A
94	C
95	B
96	B
97	D
98	C
99	A
100	A

दिनांक:

सचिव



प्रश्न पुस्तिका
QUESTION BOOKLET

AX11



Question Booklet Number
प्रश्न पुस्तिका क्रमांक

पूर्णांक / Maximum
Marks : **400**

समय / Time :
2 घंटे / Hours

पुस्तिका में पृष्ठों की
संख्या / Number of
Pages in Booklet : **16**

पुस्तिका में प्रश्नों की संख्या /
Number of Questions in
Booklet : **100**

अनुदेश / Instructions

- प्रश्न पत्र को हल करने से पहले, कृपया अपनी प्रश्न पुस्तिका और ओ.एम.आर. उत्तर-पत्रक की जांच करें और सुनिश्चित करें कि:
 - प्रश्न पुस्तिका और ओ.एम.आर. उत्तर-पत्रक की क्रम संख्या समान है।
 - प्रश्न पुस्तिका के सभी पृष्ठ ठीक से मुद्रित हैं और सभी पृष्ठों पर सारे प्रश्न मुद्रित हैं।
 किसी भी विसंगति/दोष के मामले में, अभ्यर्थी को प्रश्न पुस्तिका और ओ.एम.आर. उत्तर-पत्रक को बदलने के लिए तुरंत अभिजागर को मामले की सूचना देनी चाहिए। परीक्षा प्रारम्भ होने के पांच मिनट बाद इस संबंध में किसी भी दावे/आपत्ति पर विचार नहीं किया जाएगा। इसके लिए अभ्यर्थी उत्तरदायी होगा।
Before attempting the question paper, kindly check your Question Booklet(QB) and O.M.R. Answer Sheet and ensure that:
 - Serial number of Question Booklet(QB) and OMR Answer Sheet is same.
 - All pages and all questions are properly printed
 In case of any discrepancy/defect, the candidate should immediately report the matter to the Invigilator for replacement of Question Booklet(QB) and OMR Answer Sheet. No claim/objection in this regard will be entertained after five minutes of start of examination, candidate will be liable for the same.
- ओएमआर उत्तर-पत्रक के पीछे दिए गए सभी निर्देश पढ़ें।
Read all instructions on the reverse of OMR Answer Sheet.
- ओएमआर उत्तर-पत्रक पर केवल नीले बॉल प्वाइंट पेन का प्रयोग करें। कृपया, ओएमआर उत्तर-पत्रक में अपना रोल नंबर और अन्य जानकारी सही ढंग से भरें।
On OMR Answer Sheet, use blue ball point pen only. Please, fill your Roll No. and other information correctly in OMR Answer Sheet.
- यदि किसी प्रश्न के लिए एक से अधिक उत्तर अंकित किये जाते हैं तो उसे गलत उत्तर माना जायेगा।
If more than one response is marked for a question, it would be treated as wrong answer.
- प्रत्येक गलत उत्तर का प्रश्न अंक का 1/4 भाग काटा जायेगा। गलत उत्तर से तात्पर्य अशुद्ध उत्तर या किसी प्रश्न के एक से अधिक उत्तर से है।
1/4 part of the mark(s) of each question will be deducted for each wrong answer. (A wrong answer means an incorrect answer or more than one answers for any question).
- प्रत्येक प्रश्न में पाँच विकल्प/गोले हैं। पहले चार विकल्प/गोले (A), (B), (C) और (D) उपयुक्त उत्तर से संबंधित हैं और पाँचवाँ विकल्प/गोला (E) 'अनुत्तरित प्रश्न' से संबंधित है।
Each question has five options/circles. First four options/circles (A), (B), (C) and (D) are related to appropriate answer and fifth option/circle (E) is related to 'Question not attempted'.
- सही उत्तर दर्शाने के लिए अभ्यर्थी को ओ.एम.आर. उत्तर-पत्रक पर संबंधित प्रश्न संख्या के पहले चार विकल्प (A), (B), (C) या (D) में से केवल एक विकल्प/गोले को नीले बॉल प्वाइंट पेन से भरना होगा। यदि अभ्यर्थी किसी प्रश्न

- का उत्तर नहीं देना चाहता है तो पाँचवें विकल्प/गोले (E) को गहरा करना होगा।
To indicate the correct answer, the candidate has to fill in only one option/circle (A), (B), (C) or (D) with blue ball point pen for respective question number on the OMR Answer Sheet. If the candidate does not want to answer any question then the fifth option/circle (E) should be darkened.
- यदि पाँच विकल्पों में से कोई भी विकल्प/गोला गहरा नहीं किया गया तो प्रश्न का 1/3 भाग अंक काट लिया जायेगा।
1/3 part of the marks will be deducted for the questions, if none of the option/circle are darkened.
- 10 प्रतिशत से अधिक प्रश्नों में किसी भी विकल्प/गोले को अभ्यर्थी द्वारा गहरा नहीं किया गया तो उसे परीक्षा के लिए अयोग्य घोषित कर दिया जाएगा।
If a candidate leaves more than 10 percent questions or does not darken any of the five options, he/she will be disqualified for the exam.
- अभ्यर्थी को प्रत्येक प्रश्न के लिए कम से कम एक विकल्प/गोला भरा है या नहीं यह सुनिश्चित करने के लिए 10 मिनट अतिरिक्त दिए जाएंगे।
Candidate will be given 10 minutes extra to make sure, if he/she has filled up any one option/circle for each questions.
- यदि प्रश्न के हिन्दी या अंग्रेजी संस्करण में मुद्रण या तथ्यात्मक प्रकृति की किसी भी प्रकार की अस्पष्ट/गलती है, तो अंग्रेजी संस्करण को अंतिम माना जाएगा।
If there is any sort of ambiguity / mistake either of printing or factual in nature in Hindi or English version of questions, then the English Version will be treated as final.
- परीक्षा हॉल में मोबाइल फोन/ब्लूटूथ डिवाइस या किसी अन्य इलेक्ट्रॉनिक गैजेट का उपयोग सख्त वर्जित है। यदि किसी अभ्यर्थी के पास ऐसी कोई प्रतिबंधित सामग्री पाई गई तो उसके विरुद्ध नियमानुसार सख्त कार्रवाई की जाएगी।
Use of Mobile Phone / Bluetooth Device or any other electronic gadget in the examination hall is strictly prohibited. If any such prohibited material is found with any candidate, strict action will be taken against him/her as per rules.

चेतावनी : यदि कोई अभ्यर्थी नकल करते हुए पाया जाता है या अनुचित तरीके अपनाते हुए पाया जाता है या उसके पास कोई अनाधिकृत सामग्री पाई जाती है तो उसके खिलाफ पुलिस स्टेशन में एफ.आई.आर. दर्ज की जाएगी और वह राज्य सार्वजनिक परीक्षा अधिनियम, 2022 और संशोधन अधिनियम 2023, (भर्ती में अनुचित साधनों की रोकथाम के अध्यापय) के तहत मुकदमा चलाने के लिए उत्तरदायी होगा जिसमें 10 वर्ष से आजीवन कारावास तथा ₹ 1 करोड़ तक का प्रावधान है। उसे बोर्ड की भविष्य की सभी परीक्षाओं से स्थायी रूप से विवर्जित भी किया जा सकता है।

Warning : If a candidate is found copying or using unfair means or if any unauthorized material is found in his/her possession, F.I.R will be lodged against him/her in the Police Station and he/she would be liable to be prosecuted under State Public Examination (Measures for Preventions of Unfair Means in Recruitment) Act, 2022 and Amendment Act 2023. The act has provisions of imprisonment of 10 years to life and fine up to ₹ 1 crore. Board may also debar him/her permanently from all future examinations conducted by the Board.

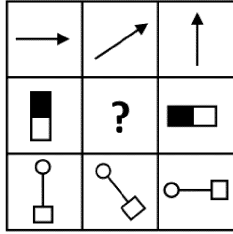


इस परीक्षा पुस्तिका को तब तक न खोलें जब तक कहा न जाए ।

Do not open this test booklet until you are asked to do so.

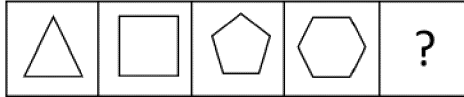
- 1 नवनीत ने प्रीत से कहा, 'हालाँकि मैं तुम्हारी माँ की बेटी हूँ, तुम मेरी बहन नहीं हो।' प्रीत का नवनीत से क्या संबंध है?
 (A) बहन (B) भाई
 (C) चचेरा भाई (D) भतीजा
 (E) अनुत्तरित प्रश्न

- 2 निम्नलिखित में से कौन सी आकृति दिए गए चित्र आव्यूह को पूरा करेगी ?



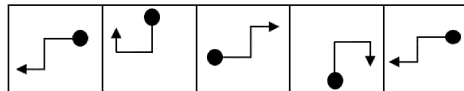
- (A) (B)
 (C) (D)
 (E) अनुत्तरित प्रश्न

- 3 उस आकृति का चयन करें जो नीचे दी गई समान श्रृंखला जारी रखेगी:



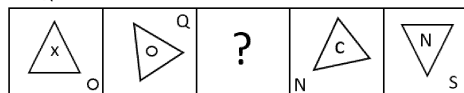
- (A) (B)
 (C) (D)
 (E) अनुत्तरित प्रश्न

- 4 निम्नलिखित में से कौन सी आकृति दी गई श्रृंखला को जारी रखेगी?



- (A) (B)
 (C) (D)
 (E) अनुत्तरित प्रश्न

- 5 निम्नलिखित विकल्पों में से उस आकृति का चयन करें जो दी गई श्रृंखला को पूरा करेगी:

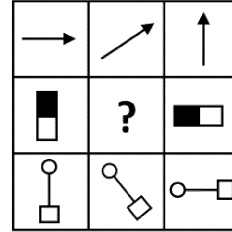


- (A) (B)
 (C) (D)
 (E) अनुत्तरित प्रश्न

- 1 Navneet told Preet, 'Though I am the daughter of your mother, you are not my sister.' How is Preet related to Navneet?

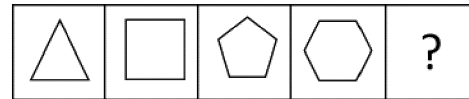
- (A) Sister (B) Brother
 (C) Cousin (D) Nephew
 (E) Question not attempted

- 2 Which of the following figures will complete the given figure matrix?



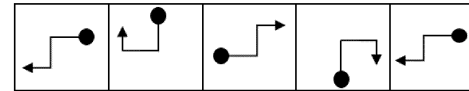
- (A) (B)
 (C) (D)
 (E) Question not attempted

- 3 Select the figure which would continue the same series as below:



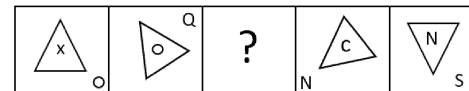
- (A) (B)
 (C) (D)
 (E) Question not attempted

- 4 Which of the following figures continue the given series?



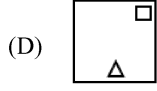
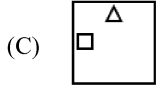
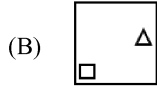
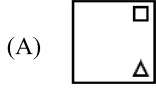

- (A) (B)
 (C) (D)
 (E) Question not attempted

- 5 Select the figure from the following options which will complete the given series:



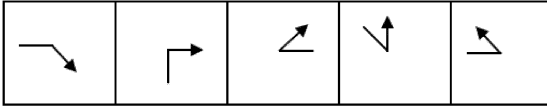
- (A) (B)
 (C) (D)
 (E) Question not attempted

6 निम्नलिखित में से कौन सी आकृति दी गई आकृति श्रृंखला को पूरा करेगी?



(E) अनुत्तरित प्रश्न

7 निम्नलिखित में से कौन सी आकृति विषम है?



(a) (b) (c) (d) (e)

(A) b

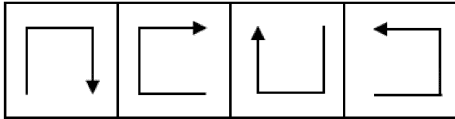
(B) d

(C) e

(D) c

(E) अनुत्तरित प्रश्न

8 विषम का चयन कीजिए।



(a) (b) (c) (d)

(A) a

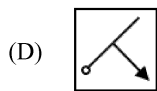
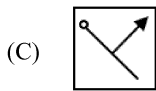
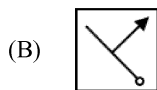
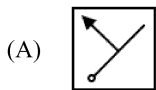
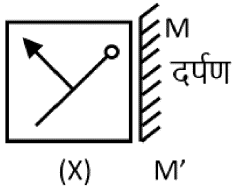
(B) b

(C) c

(D) d

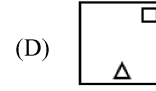
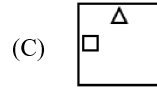
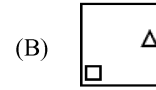
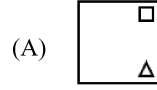

(E) अनुत्तरित प्रश्न

9 नीचे दी गई आकृति (X) की सही दर्पण (M M') छवि का चयन कीजिए:



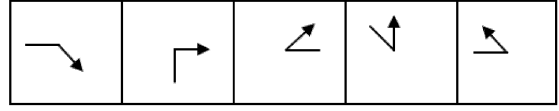
(E) अनुत्तरित प्रश्न

6 Which of the following figures will complete the given figure series?



(E) Question not attempted

7 Which of the following figure is the odd one out?



(a) (b) (c) (d) (e)

(A) b

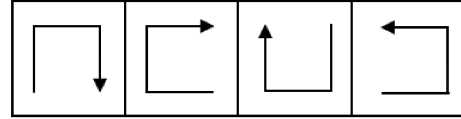
(B) d

(C) e

(D) c

(E) Question not attempted

8 Choose the odd one out.



(a) (b) (c) (d)

(A) a

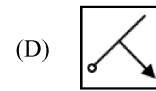
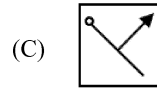
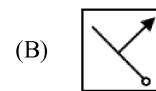
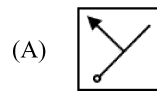
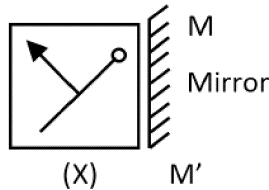
(B) b

(C) c

(D) d

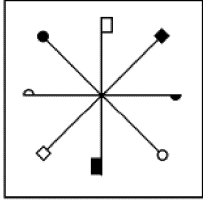
(E) Question not attempted

9 Choose the correct mirror (M M') image of the figure(X) given below:



(E) Question not attempted

- 10 निम्नलिखित में से कौन सी आकृति दी गई आकृति(X) की सही जल छवि है?



(X)

- (A) (B) (C) (D)

(E) अनुत्तरित प्रश्न

- 11 राजस्थान में कैल्साइट का भंडार किस स्थान पर पाया जाता है? (निम्न में से सबसे उपयुक्त विकल्प चुनें)

- (A) सिराही (B) भरतपुर
(C) धौलपुर (D) अलवर

(E) अनुत्तरित प्रश्न

- 12 "इंदिरा गांधी शहरी क्रेडिट कार्ड योजना" के लाभार्थी हैं:-

- (A) राजस्थान में कॉर्पोरेट कार्यालयों में काम करने वाली महिलाएँ
(B) राजस्थान में ब्लू कॉलर बैंक कर्मचारी
(C) राजस्थान के शहरी क्षेत्रों में स्ट्रीट वेंडर
(D) राजस्थान के शहरी क्षेत्रों में घरेलू सहायिका के रूप में काम करने वाले लोग

(E) अनुत्तरित प्रश्न

- 13 आर्थिक समीक्षा (2023-24) के अनुसार, दूसरे अग्रिम अनुमानों के तहत, वर्ष 2023-24 के लिए वर्तमान मूल्यों पर प्रति व्यक्ति आय अनुमानित है:-

- (A) ₹ 1,76,240 (B) ₹ 1,50,653
(C) ₹ 1,67,964 (D) ₹ 1,79,080

(E) अनुत्तरित प्रश्न

- 14 भारत के प्रधान मंत्री की नियुक्ति कौन करता है? (निम्न में से सबसे उपयुक्त विकल्प चुनें)

- (A) संसद (B) राष्ट्रपति
(C) लोकसभा (D) भारत के नागरिक

(E) अनुत्तरित प्रश्न

- 15 भारत के राष्ट्रपति को पद ग्रहण करने से पहले पद की शपथ कौन दिलाता है?

- (A) अध्यक्ष (B) भारत के उप-राष्ट्रपति
(C) भारत के मुख्य न्यायाधीश (D) प्रधान मंत्री

(E) अनुत्तरित प्रश्न

- 16 राज्य की कार्यपालिका शक्ति किसमें निहित होती है?

- (A) गृह मंत्री (B) मुख्यमंत्री
(C) सुप्रीम कोर्ट के मुख्य न्यायाधीश (D) राज्यपाल

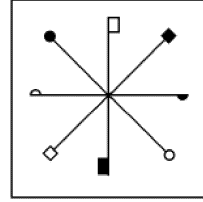
(E) अनुत्तरित प्रश्न

- 17 राज्यपाल के रूप में नियुक्ति के लिए निम्नलिखित में से कौन सी आवश्यक योग्यता/शर्त नहीं है?

- (A) वह भारत का नागरिक होना चाहिए
(B) वह 35 वर्ष की आयु पूरी कर चुका हो।
(C) वह संसद के किसी भी सदन का सदस्य नहीं होना चाहिए
(D) वह उस राज्य का निवासी होना चाहिए जहाँ उसकी नियुक्ति की जा रही है।

(E) अनुत्तरित प्रश्न

- 10 Which one of the following figures is the correct water image of the given figure(X)?



(X)

- (A) (B) (C) (D)

(E) Question not attempted

- 11 Calcite deposits are found in which place in Rajasthan? (Choose the most appropriate option from below)

- (A) Sirohi (B) Bharatpur
(C) Dholpur (D) Alwar

(E) Question not attempted

- 12 The beneficiaries of the "Indira Gandhi Urban Credit Card Scheme" are:

- (A) Women working in corporate offices in Rajasthan
(B) Blue-collared bank employees in Rajasthan
(C) Street vendors in urban areas of Rajasthan
(D) People working as house-help in urban areas of Rajasthan

(E) Question not attempted

- 13 According to the Economic Review (2023-24), as per the second advance estimates, the per capita income at current prices for the year 2023-24 is estimated to be:-

- (A) ₹ 1,76,240 (B) ₹ 1,50,653
(C) ₹ 1,67,964 (D) ₹ 1,79,080

(E) Question not attempted

- 14 Who appoints the Prime Minister of India? (Choose the most appropriate option from below)

- (A) Parliament (B) President
(C) Lok Sabha (D) Citizens of India

(E) Question not attempted

- 15 Who administers the oath of office to the President of India before he enters office?

- (A) Speaker (B) Vice President of India
(C) Chief Justice of India (D) Prime Minister

(E) Question not attempted

- 16 In whom is the executive power of State vested?

- (A) Home Minister
(B) Chief Minister
(C) Chief Justice of Supreme Court
(D) Governor
(E) Question not attempted

- 17 Which of the following is NOT an essential qualification/condition for appointment as a Governor?

- (A) He should be a citizen of India.
(B) He must have completed the age of 35 years.
(C) He must not be a member of either House of Parliament.
(D) He should be a domicile of the state to which he is being appointed.
(E) Question not attempted

- 18 निम्नलिखित में से कौन राजस्थान के प्रथम मुख्य सचिव थे?
(A) श्री एस.डब्ल्यू. शिवेशकर (B) श्री के. राधाकृष्णन
(C) श्री वी. नारायण (D) श्री बी. जी. राव
(E) अनुत्तरित प्रश्न
- 19 किस संवैधानिक संशोधन अधिनियम ने दो या दो से अधिक राज्यों के लिए एक ही व्यक्ति को राज्यपाल के रूप में नियुक्त करने की सुविधा प्रदान की?
(A) चौथा (B) छठा
(C) पाँचवां (D) सातवां
(E) अनुत्तरित प्रश्न
- 20 नीचे दो कथन दिए गए हैं:
कथन I: राज्यपाल केवल उन्हीं व्यक्तियों को मंत्री नियुक्त करता है जिनकी सिफारिश मुख्यमंत्री द्वारा की जाती है।
कथन II: मुख्यमंत्री मंत्रियों के बीच विभागों का आवंटन और फेरबदल करते हैं।
उपरोक्त कथनों के आलोक में, नीचे दिए गए विकल्पों में से सबसे उपयुक्त उत्तर चुनें:
(A) कथन I और कथन II दोनों सही हैं
(B) कथन I और कथन II दोनों गलत हैं
(C) कथन I सही है लेकिन कथन II गलत है
(D) कथन I गलत है लेकिन कथन II सही है
(E) अनुत्तरित प्रश्न
- 21 राजस्थान विधान सभा के प्रथम अध्यक्ष/सभापति कौन थे?
(A) पूनम चंद विश्वाई (B) रामनिवास मिर्धा
(C) राम किशोर व्यास (D) नरोत्तम लाल जोशी
(E) अनुत्तरित प्रश्न
- 22 निम्नलिखित में से कौन सा मानव पाचन तंत्र का अंग नहीं है? (निम्न में से सबसे उपयुक्त विकल्प चुनें)
(A) ग्रसनली (B) ग्रासनली
(C) मलाशय (D) श्वासनली
(E) अनुत्तरित प्रश्न
- 23 निम्नलिखित में से कौन सा एक संक्रामक रोग नहीं है? (निम्न में से सबसे उपयुक्त विकल्प चुनें)
(A) टायफाइड (B) कैसर
(C) क्षय रोग (D) हैज़ा
(E) अनुत्तरित प्रश्न
- 24 भूमि की जैविक क्षमता का वितरण जो अंततः रेगिस्तान जैसी स्थिति पैदा कर सकता है उसे कहा जाता है:- (निम्न में से सबसे उपयुक्त विकल्प चुनें)
(A) जलवायु परिवर्तन (B) मरुस्थलीकरण
(C) भूमि की हानि (D) जैविक हानि
(E) अनुत्तरित प्रश्न
- 25 प्राकृतिक पर्यावरण की भौतिक, रासायनिक या जैविक विशेषताओं में अवांछनीय परिवर्तन को समझाने के लिए निम्नलिखित में से किस शब्द का उपयोग किया जाता है?
(A) महामारी (B) सर्वव्यापी
(C) प्रदूषण (D) गुणवत्ता
(E) अनुत्तरित प्रश्न
- 26 राज्य आपदा प्रबंधन प्राधिकरण का नेतृत्व कौन करता है? (निम्न में से सबसे उपयुक्त विकल्प चुनें)
(A) राज्यपाल
(B) राज्य के मुख्य सचिव
(C) मुख्यमंत्री
(D) उच्च न्यायालय के मुख्य न्यायाधीश
(E) अनुत्तरित प्रश्न
- 51 Who among the following was the first Chief Secretary of Rajasthan?
(A) Shri S.W. Shiveshkar (B) Shri K. Radhakrishnan
(C) Shri V. Narayan (D) Shri B. G. Rao
(E) Question not attempted
- 52 Which Constitutional Amendment Act facilitated the appointment of the same person as a Governor for two or more states?
(A) 4th (B) 6th
(C) 5th (D) 7th
(E) Question not attempted
- 53 Given below are two statements:
Statement I: The Governor appoints only those persons as ministers who are recommended by the Chief Minister.
Statement II: Chief Minister allocates and reshuffles the portfolios among ministers.
In the light of the above statements, choose the most appropriate answer from the options given below:
(A) Both Statement I and Statement II are correct
(B) Both Statement I and Statement II are incorrect
(C) Statement I is correct but Statement II is incorrect
(D) Statement I is incorrect but Statement II is correct
(E) Question not attempted
- 54 Who was the first speaker of the Rajasthan Legislative Assembly?
(A) Poonam Chand Vishnoi
(B) Ram Niwas Mirdha
(C) Ram Kishore Vyas
(D) Narottam Lal Joshi
(E) Question not attempted
- 55 Which of the following is not an organ in the human digestive system? (Choose the most appropriate option from below)
(A) Pharynx (B) Esophagus
(C) Rectum (D) Trachea
(E) Question not attempted
- 56 Which of the following is NOT an infectious disease? (Choose the most appropriate option from below)
(A) Typhoid (B) Cancer
(C) Tuberculosis (D) Cholera
(E) Question not attempted
- 57 The distribution of the biological potential of the land which can ultimately lead to desert like condition is termed as:- (Choose the most appropriate option from below)
(A) Climate change (B) Desertification
(C) Loss of land (D) Biological loss
(E) Question not attempted
- 58 Which of the following terms is used to explain the undesirable change in the physical, chemical or biological characteristics of natural environment?
(A) Epidemics (B) Pandemic
(C) Pollution (D) Quality
(E) Question not attempted
- 59 The "State Disaster Management Authority" is headed by:- (Choose the most appropriate option from below)
(A) Governor
(B) Chief Secretary of the State
(C) Chief Minister
(D) Chief Justice of High Court
(E) Question not attempted

- 27 उस सुपर चक्रवात का नाम पहचानें जिसने मई, 2020 में पश्चिम बंगाल और ओडिशा को अत्यधिक नुकसान पहुंचाया।
(A) अम्फान (B) रीता
(C) कैटरिना (D) फानी
(E) अनुत्तरित प्रश्न
- 28 1984 में गैस/रासायनिक दुर्घटना से सम्बंधित राज्य था:-
(A) राजस्थान (B) उत्तर प्रदेश
(C) मध्य प्रदेश (D) उत्तराखंड
(E) अनुत्तरित प्रश्न
- 29 निम्नलिखित में से किसे किसी राज्य से एक क्षेत्र को अलग करके एक नया राज्य बनाने का अधिकार है? (निम्न में से सबसे उपयुक्त विकल्प चुनें)
(A) प्रधानमंत्री (B) सुप्रीम कोर्ट
(C) संसद (D) मुख्यमंत्री
(E) अनुत्तरित प्रश्न
- 30 मूल भारतीय संविधान को प्रवाहमयी इटैलिक शैली में किसके द्वारा हस्तलिखित किया गया था?
(A) प्रेम बिहारी नारायण रायजादा
(B) एच.वी.आर. अयंगर
(C) बी. एन. राव
(D) डॉ. के.एम. मुंशी
(E) अनुत्तरित प्रश्न
- 31 भारत के प्रथम राष्ट्रपति कौन थे?
(A) मौलाना अबुल कलाम आज़ाद
(B) डॉ. राजेंद्र प्रसाद
(C) डॉ. भीमराव अंबेडकर
(D) सरदार वल्लभ भाई पटेल
(E) अनुत्तरित प्रश्न
- 32 संविधान सभा ने अपनी पहली सत्र बैठक आयोजित की थी:
(A) 9 नवंबर 1946 को (B) 19 दिसंबर 1946 को
(C) 9 दिसंबर 1946 को (D) 19 नवंबर 1946 को
(E) अनुत्तरित प्रश्न
- 33 यदि कोई पीआईओ अनजाने में छूट वाली जानकारी घोषित करता है तो क्या सद्भावना प्रावधान के तहत कार्रवाई लागू होगी? (निम्न में से सबसे उपयुक्त विकल्प चुनें)
(A) हाँ, यह 'आरटीआई अधिनियम' या उसके तहत किसी नियम के तहत किसी भी अधिकारी की किसी भी कार्रवाई पर लागू होता है।
(B) नहीं, यह लागू नहीं होगा।
(C) "सद्भावना से की गई कार्रवाई" का संरक्षण किसी भी पीआईओ पर लागू नहीं होता है।
(D) नहीं, यह केवल 'आरटीआई अधिनियम, 2005' के तहत जानकारी देने से इनकार करने पर लागू होता है।
(E) अनुत्तरित प्रश्न
- 34 अरावली पर्वत श्रृंखला निम्नलिखित में से किस भूभाग का हिस्सा है? (निम्न में से सबसे उपयुक्त विकल्प चुनें)
(A) अंगारालैंड (B) गोंडवाना भूमि
(C) हिमालय क्षेत्र (D) पूर्वांचल
(E) अनुत्तरित प्रश्न
- 35 निम्नलिखित में से कौन-सा एक, राजस्थान में जलविभाजक की तरह कार्य करता है? (निम्न में से सबसे उपयुक्त विकल्प चुनें)
(A) हिमालय (B) पश्चिमी घाट
(C) अरावली (D) पूर्वी घाट
(E) अनुत्तरित प्रश्न
- 27 Identify the name of the super cyclone that caused extreme damage to West Bengal and Odisha in May, 2020.
(A) Amphan (B) Rita
(C) Katarina (D) Fani
(E) Question not attempted
- 28 The state associated with gas/chemical accident in 1984 was:-
(A) Rajasthan (B) Uttar Pradesh
(C) Madhya Pradesh (D) Uttarakhand
(E) Question not attempted
- 29 Who among the following is empowered to form a new state by separation of territory from any state? (Choose the most appropriate option from below)
(A) Prime Minister (B) Supreme Court
(C) Parliament (D) Chief Minister
(E) Question not attempted
- 30 The original Indian Constitution was handwritten in a flowing italic style by:-
(A) Prem Bihari Narayan Raizada
(B) H.V.R. Iyengar
(C) B. N. Rao
(D) Dr. K.M. Munshi
(E) Question not attempted
- 31 Who was the first President of India?
(A) Maulana Abul Kalam Azad
(B) Dr. Rajendra Prasad
(C) Dr. Bhimrao Ambedkar
(D) Sardar Vallabh Bhai Patel
(E) Question not attempted
- 32 The Constituent Assembly held its first session meeting on:-
(A) November 9, 1946 (B) December 19, 1946
(C) December 9, 1946 (D) November 19, 1946
(E) Question not attempted
- 33 Would the action in good faith provision be applicable if a PIO unknowingly declares exempted information? (Choose the most appropriate option from below)
(A) Yes, it applies to any action of any official under the 'RTI Act' or any rule there under.
(B) No, it will not be applicable.
(C) Protection of the "action in good faith" is not applicable to a PIO at all.
(D) No, it only applies to refusal to give in information under the 'RTI Act, 2005.'
(E) Question not attempted
- 34 The Aravalli mountain range is a part of which of the following landmasses? (Choose the most appropriate option from below)
(A) Angaraland (B) Gondwana land
(C) Himalayan region (D) Purvanchals
(E) Question not attempted
- 35 Which one of the following acts as a water divide in Rajasthan? (Choose the most appropriate option from below)
(A) Himalayas (B) Western Ghats
(C) Aravalli (D) Eastern Ghats
(E) Question not attempted

- 36 राजस्थान में लेटराइट मिट्टी के बारे में निम्नलिखित में से कौन सा कथन सही नहीं है?
 (A) इसका निर्माण क्रिस्टलीय एवं रूपांतरित चट्टानों से होता है।
 (B) इस मिट्टी में नाइट्रोजन, फास्फोरस तथा ह्यूमस पर्याप्त मात्रा में होते हैं।
 (C) लोहे की उपस्थिति के कारण यह लाल दिखता है।
 (D) यह मिट्टी डूंगरपुर, उदयपुर के मध्य तथा दक्षिणी भाग में पाई जाती है।
 (E) अनुत्तरित प्रश्न
- 37 निम्नलिखित में से किस पेड़ को 'थार का कल्पवृक्ष' कहा जाता है?
 (A) खजूर (B) बबूल
 (C) नीम (D) खेजड़ी
 (E) अनुत्तरित प्रश्न
- 38 निम्न में से राजस्थान की सबसे ऊँची चोटी कौन सी है?
 (A) दिलवाड़ा (B) माउंट आबू
 (C) गुरुशिखर (D) तारागढ़
 (E) अनुत्तरित प्रश्न
- 39 भारत की सबसे बड़ी स्थलबद्ध खारे पानी की झील राजस्थान में है। निम्नलिखित में से यह कौन सी है?
 (A) सांभर (B) डीडवाना
 (C) लूणकरणसर (D) पचपदरा
 (E) अनुत्तरित प्रश्न
- 40 2011 की जनगणना के अनुसार राजस्थान का कौन सा जिला सर्वाधिक साक्षर है?
 (A) जालोर (B) कोटा
 (C) झुंझुनू (D) सीकर
 (E) अनुत्तरित प्रश्न
- 41 किस परियोजना के तहत राष्ट्रीय राजमार्ग संख्या-8 को जयपुर से अजमेर तक 6 लेन में उन्नत किया गया?
 (A) नोर्थ साउथ कॉरिडोर (B) ईस्ट वेस्ट कॉरिडोर
 (C) स्वर्णिम चतुर्भुज (D) राज्य राजमार्ग
 (E) अनुत्तरित प्रश्न
- 42 2023-24 में, "इंदिरा गांधी शहरी रोजगार गारंटी योजना" के तहत गारंटीकृत कार्य दिवसों की संख्या बढ़ा दी गई:- (निम्न में से सबसे उपयुक्त विकल्प चुनें)
 (A) 110 कार्य दिवस (B) 125 कार्य दिवस
 (C) 140 कार्य दिवस (D) 160 कार्य दिवस
 (E) अनुत्तरित प्रश्न
- 43 निम्नलिखित में से गाय की किस नस्ल को "राजस्थान की कामधेनु" के रूप में जाना जाता है?
 (A) थारपारकर (B) राठी
 (C) नागौरी (D) मालवी
 (E) अनुत्तरित प्रश्न
- 44 निम्नलिखित में से कौन सी महिला किसानों के सशक्तिकरण के लिए राजस्थान कृषि विभाग द्वारा की गई पहल है?
 1. महिला किसानों तक कृषि प्रौद्योगिकी के प्रसार के लिए महिला किसानों के लिए प्रशिक्षण का प्रावधान।
 2. कृषि शिक्षा प्राप्त करने वाली लड़कियों को प्रोत्साहन।
 3. महिला किसानों को कीमत पर बीज मिनी किट का वितरण।
 4. राजस्थान की प्रत्येक ग्राम पंचायत में सभी महिला किसानों को ट्रैक्टर उपलब्ध कराना।
 निम्न में से सबसे उपयुक्त विकल्प चुनें:
 (A) 1 और 2 दोनों सही हैं। (B) सभी 1, 2, 3 और 4 सही हैं।
 (C) 3 और 4 दोनों सही हैं। (D) 1 और 4 दोनों सही हैं।
 (E) अनुत्तरित प्रश्न
- 36 Which of the following statements is NOT correct about laterite soil in Rajasthan?
 (A) It is formed by the crystalline and metamorphic rocks.
 (B) This soil contains enough quantity of nitrogen, phosphorus and humus.
 (C) It looks red due to the presence of Iron.
 (D) This soil is found in Dungarpur, central and southern part of Udaipur.
 (E) Question not attempted
- 37 Which one of the following trees is known as the 'Kalpvriksha of Thar'?
 (A) Date Palm (B) Babool
 (C) Neem (D) Khejadi
 (E) Question not attempted
- 38 Which of the following is the highest peak of Rajasthan?
 (A) Dilwara (B) Mount Abu
 (C) Guru Shikhar (D) Taragarh
 (E) Question not attempted
- 39 The largest inland salt water lake of India is in Rajasthan. Which one of the following is it?
 (A) Sambhar (B) Didwana
 (C) Lunkaransar (D) Pachpadra
 (E) Question not attempted
- 40 According to the 2011 census, which district in Rajasthan is the most literate?
 (A) Jalore (B) Kota
 (C) Jhunjhunu (D) Sikar
 (E) Question not attempted
- 41 Under which project was the National Highway No.-8 upgraded to 6 lanes from Jaipur to Ajmer?
 (A) North South Corridor (B) East West Corridor
 (C) Golden Quadrilateral (D) State Highway
 (E) Question not attempted
- 42 In 2023-24, the number of working days guaranteed under the "Indira Gandhi Shahari Rojgar Guarantee Scheme" were increased to: (Choose the most appropriate option from below)
 (A) 110 working days (B) 125 working days
 (C) 140 working days (D) 160 working days
 (E) Question not attempted
- 43 Which of the following breeds of cow is known as the "Kamdheni of Rajasthan"?
 (A) Tharparkar (B) Rathi
 (C) Nagori (D) Malawi
 (E) Question not attempted
- 44 Which of the following is an initiative taken by the Rajasthan Agriculture Department for women farmers' empowerment?
 1. Provision of training for women farmers for dissemination of agricultural technology to fellow women farmers.
 2. Incentive to girls pursuing agricultural education.
 3. Distribution of seed mini-kits to women farmers on price.
 4. Provision of tractors to all women farmers in each Gram Panchayat of Rajasthan.
 Choose the most appropriate option from below:
 (A) Both 1 and 2 are correct.
 (B) All 1, 2, 3 and 4 are correct.
 (C) Both 3 and 4 are correct.
 (D) Both 1 and 4 are correct.
 (E) Question not attempted

- 45 निम्नलिखित में से कौन सा एक प्रमुख संस्थान है जो भारत में ग्रामीण विकास पर प्रशिक्षण प्रदान करता है और अनुसंधान करता है?
 (A) राष्ट्रीय ग्रामीण विकास संगठन
 (B) राष्ट्रीय ग्रामीण संस्थान
 (C) ग्रामीण विकास संस्थान
 (D) राष्ट्रीय ग्रामीण विकास एवं पंचायती राज संस्थान
 (E) अनुत्तरित प्रश्न
- 46 दी गई श्रृंखला में अगला पद ज्ञात कीजिए:
 BZM, DXN, FVO, HTP, ?
 (A) JRP (B) JRQ
 (C) JQS (D) RJQ
 (E) अनुत्तरित प्रश्न
- 47 विषम का चयन कीजिए :
 QT, LO, SP, CF
 (A) QT (B) LO
 (C) SP (D) CF
 (E) अनुत्तरित प्रश्न
- 48 निम्नलिखित शब्दों के युग्म में से वह युग्म ढूँढ़ें जो अन्य से भिन्न है:
 (A) गाय-दूध (B) मुर्गी-अण्डा
 (C) भेड़-ऊन (D) पक्षी-उड़ना
 (E) अनुत्तरित प्रश्न
- 49 नीचे दी गई संख्याएँ, एक को छोड़कर एक निश्चित तरीके से समान हैं। विषम का चयन कीजिए।
 (A) 57 (B) 114
 (C) 108 (D) 133
 (E) अनुत्तरित प्रश्न
- 50 वह युग्म ज्ञात कीजिए जो अन्य तीन से भिन्न है।
 (A) ऊँट-ऊँचा (B) कछुआ-तेज
 (C) बाघ-मांसाहारी (D) पक्षी-चहचहाहट
 (E) अनुत्तरित प्रश्न
- 51 नीचे दिए गए शब्द एक को छोड़कर किसी न किसी तरह से समान हैं। विषम का चयन कीजिए :
 (A) केला (B) अंजीर
 (C) आड़ू (D) आलू
 (E) अनुत्तरित प्रश्न
- 52 यदि एक निश्चित कूट भाषा में 'PENTAGON' को 'DQSOFBMP' और 'BOUTIQUE' को 'NCSVPJDV' लिखा जाता है, तो उसी कूट भाषा में 'BEAUTIFY' कैसे लिखा जाएगा?
 (A) CDTBUHXG (B) DCBTHUGX
 (C) DCTBHUXG (D) CDTBHUXY
 (E) अनुत्तरित प्रश्न
- 53 यदि किसी कोड (कूट) भाषा में 'PRISON' को 'RPKQQL' लिखा जाता है, तो उसी कोड (कूट) भाषा में 'CRACKS' कैसे लिखा जाएगा?
 (A) ATYEIU (B) EPCASK
 (C) EPCAMQ (D) EPACQM
 (E) अनुत्तरित प्रश्न
- 45 Which of the following is a premier institute which imparts training and undertakes research on rural development in India?
 (A) National Rural Development Organisation
 (B) National Rural Institute
 (C) Rural Institute of Development
 (D) National Institute of Rural Development and Panchayati Raj
 (E) Question not attempted
- 46 Find the next term in the given series:
 BZM, DXN, FVO, HTP, ?
 (A) JRP (B) JRQ
 (C) JQS (D) RJQ
 (E) Question not attempted
- 47 Choose the 'odd' one out:
 QT, LO, SP, CF
 (A) QT (B) LO
 (C) SP (D) CF
 (E) Question not attempted
- 48 Amongst the following pair of words, find the one which is different from the others:
 (A) Cow-Milk (B) Hen-Egg
 (C) Sheep-Wool (D) Bird-Fly
 (E) Question not attempted
- 49 The numbers given below are alike in a certain manner except one. Choose the odd one out.
 (A) 57 (B) 114
 (C) 108 (D) 133
 (E) Question not attempted
- 50 Find the pair which is different from the other three.
 (A) Camel-Tall (B) Turtle-Fast
 (C) Tiger-Carnivore (D) Bird-Chirp
 (E) Question not attempted
- 51 The words given below are alike in some manner except one, spot the odd one out.
 (A) Banana (B) Fig
 (C) Peach (D) Potato
 (E) Question not attempted
- 52 If in a certain code language, 'PENTAGON' is written as 'DQSOFBMP' and 'BOUTIQUE' is written as 'NCSVPJDV', how would 'BEAUTIFY' be written in the same code language?
 (A) CDTBUHXG (B) DCBTHUGX
 (C) DCTBHUXG (D) CDTBHUXY
 (E) Question not attempted
- 53 If in a code language 'PRISON' is written as 'RPKQQL', then how would 'CRACKS' be written in the same code language?
 (A) ATYEIU (B) EPCASK
 (C) EPCAMQ (D) EPACQM
 (E) Question not attempted

- 54 एक निश्चित कोड (कूट) भाषा में, 'ARGENTINA' को 'βγ#?!\$=!β', के रूप में लिखा जाता है। उस कोड (कूट) भाषा में 'ENGINE' को कैसे लिखा जाएगा?
(A) !?#=?! (B) ?!#=?!
(C) ?!=#!? (D) #!?!=!
(E) अनुत्तरित प्रश्न
- 55 यदि 'AMPLE' को '47' के रूप में कोडित (कूटित) किया जाता है और 'SAMPLE' को '66' के रूप में कोडित किया जाता है, तो 'AMPLIFY' को कैसे कोडित (कूटित) किया जाएगा?
(A) 113 (B) 75
(C) 83 (D) 82
(E) अनुत्तरित प्रश्न
- 56 यदि 'RIPE' को 8295, 'NATO' को 6347 और 'PANTHER' को 9364158 कोड किया जाता है, तो 'PRINTER' के लिए कोड क्या होगा?
(A) 9826458 (B) 8926458
(C) 8924685 (D) 9846285
(E) अनुत्तरित प्रश्न
- 57 अपनी पत्नी को एक महिला का परिचय देते हुए, राज ने कहा, 'उसकी माँ मेरी माँ के पिता की पत्नी है।' राज का महिला के पिता से क्या संबंध है?
(A) चचेरा भाई (B) नवासा
(C) बेटा (D) भतीजा
(E) अनुत्तरित प्रश्न
- 58 सुरेंद्र ने अजय से कहा, 'वह लड़की जो बैडमिंटन खेल रही है वह मेरी माँ के ससुर की पोती है, जिनका केवल एक बेटा था और कोई बेटी नहीं थी।' लड़की का सुरेंद्र से क्या संबंध है?
(A) बहन (B) बेटी
(C) भतीजी (D) पत्नी
(E) अनुत्तरित प्रश्न
- 59 'आरटीआई अधिनियम, 2005' के लागू होने के बाद, 'सूचना की स्वतंत्रता अधिनियम, 2002' की स्थिति क्या है? (निम्न में से सबसे उपयुक्त विकल्प चुनें)
(A) इसे निरस्त कर दिया गया है।
(B) जैसे ही केंद्र सरकार इसके तहत नियम बनाएगी, यह लागू हो जाएगा।
(C) केंद्र सरकार ने राज्य सरकार को इसे लागू करने की सलाह दी है।
(D) यह मौजूद है और जिस हद तक 'आरटीआई अधिनियम, 2005' विरोधाभासी है, यह बाद वाले को खत्म कर देगा।
(E) अनुत्तरित प्रश्न
- 60 आरटीआई अधिनियम का कौन सा प्रावधान आवेदनों के हस्तांतरण के बारे में बताता है?
(A) धारा 5(3) (B) धारा 6(3)
(C) धारा 7(5) (D) धारा 8(1)
(E) अनुत्तरित प्रश्न
- 61 सूचना का अधिकार अधिनियम, 2005 अधिनियमित किया गया था:
(A) 22 जून 2005 को (B) 22 जुलाई 2005 को
(C) 2 अक्टूबर 2005 को (D) 15 जून 2005 को
(E) अनुत्तरित प्रश्न
- 62 निम्नलिखित में से किस लोक देवता को मुसलमान 'रामसा-पीर' के रूप में पूजते हैं?
(A) गोगाजी (B) मल्लीनाथजी
(C) रामदेवजी (D) देवनारायणजी
(E) अनुत्तरित प्रश्न
- 54 In a certain code language, 'ARGENTINA' is written as 'βγ#?!\$=!β', how would 'ENGINE' be written in that code language?
(A) !?#=?! (B) ?!#=?!
(C) ?!=#!? (D) #!?!=!
(E) Question not attempted
- 55 If 'AMPLE' is coded as '47' and 'SAMPLE' is coded as '66', then how will 'AMPLIFY' be coded?
(A) 113 (B) 75
(C) 83 (D) 82
(E) Question not attempted
- 56 If 'RIPE' is coded as 8295, 'NATO' is coded as 6347 and 'PANTHER' is coded as 9364158, what will be the code for 'PRINTER'?
(A) 9826458 (B) 8926458
(C) 8924685 (D) 9846285
(E) Question not attempted
- 57 Introducing a woman to his wife, Raj said, 'Her mother is the wife of my mother's father'. What is the relation of Raj with the woman's father?
(A) Cousin (Paternal) (B) Grandson (Maternal)
(C) Son (D) Nephew
(E) Question not attempted
- 58 Surendra said to Ajay, "That girl playing badminton is the grand-daughter of my mother's father-in-law who had only one son and no daughter." How is the girl related to Surendra?
(A) Sister (B) Daughter
(C) Niece (D) Wife
(E) Question not attempted
- 59 After the enactment of the 'RTI Act, 2005', what is the status of the 'Freedom of Information Act, 2002'? (Choose the most appropriate option from below)
(A) It has been repealed.
(B) It will become operative as soon as the Central Government makes rules under it.
(C) The Central Government has advised the State Government to implement it.
(D) It exists and to the extent the 'RTI Act, 2005' contradicts, it will supersede the latter.
(E) Question not attempted
- 60 Which provision of the RTI Act explains about transfer of applications?
(A) Section 5(3) (B) Section 6(3)
(C) Section 7(5) (D) Section 8(1)
(E) Question not attempted
- 61 The Right to Information Act, 2005 was enacted on:-
(A) 22 June 2005 (B) 22 July 2005
(C) 2 October 2005 (D) 15 June 2005
(E) Question not attempted
- 62 Which of the following folk deities is worshipped as "Ramsa-Pir" by the muslims?
(A) Gogaji (B) Mallinathji
(C) Ramdevji (D) Devnarayanji
(E) Question not attempted

- 63 उस ख्याल का नाम बताइए जो समसामयिक समाचार, कविता, संगीत, गीत और नृत्य का सुंदर मिश्रण है।
(A) हेला ख्याल (B) जयपुरी ख्याल
(C) कन्हैया ख्याल (D) शेखावाटी ख्याल
(E) अनुत्तरित प्रश्न
- 64 उस प्रसिद्ध 'स्वांग' कलाकार का नाम बताइए जिसने भारत उत्सव में राजस्थान का प्रतिनिधित्व किया था ?
(A) जानकी लाल भांड (B) लच्छीराम
(C) मांगीलाल मिस्त्री (D) गोपी किशन भट्ट
(E) अनुत्तरित प्रश्न
- 65 फड़ कलाकार श्रीलाल जोशी का संबंध है:-
(A) सीकर से (B) जयपुर से
(C) चूरू से (D) भीलवाड़ा से
(E) अनुत्तरित प्रश्न
- 66 निम्नलिखित में से किसने चार खंडों वाला इतिहास 'वंश भास्कर' लिखा था?
(A) सूर्यमल्ल मिश्रण (B) कविराज श्यामलदास
(C) गोबिंद गंगाधर पांडे (D) दशोरा दुर्लभ राम
(E) अनुत्तरित प्रश्न
- 67 'एनल्स एंड एंटीक्विटीज़ ऑफ राजस्थान' के लेखक का नाम बताइए।
(A) कर्नल जेम्स टॉड (B) जेम्स स्किनर
(C) जेम्स प्रिंसेप (D) अलेक्जेंडर कनिंघम
(E) अनुत्तरित प्रश्न
- 68 सीकर के रेवासा गांव की तलहटी में कौन सा मंदिर स्थित है?
(A) डिग्गी कल्याणजी (B) जीणमाता
(C) कैला देवी (D) खाटू श्यामजी
(E) अनुत्तरित प्रश्न
- 69 नीचे एक कथन और उसके बाद दो धारणाएँ दी गई हैं। केवल कथन के आधार पर, निर्णय लें कि कौन सी धारणा कथन में निहित है/हैं।
कथन: जब लोग पूछते हैं कि आपके घर को किसने पेंट किया है, तो आप जानते हैं कि आपका घर उत्कृष्ट रूप से पेंट किया गया है।
धारणाएँ:
I लोग चाहते हैं कि आप उन्हें उत्कृष्ट पेंटिंग के मानदंड बताएं।
II अगर आपके घर की पेंटिंग अच्छी नहीं है तो लोग आपके पेंटर के बारे में नहीं पूछते।
(A) केवल I ही निहित है
(B) केवल II ही निहित है
(C) I और II दोनों निहित हैं
(D) न तो I और न ही II निहित है
(E) अनुत्तरित प्रश्न
- 70 नीचे दिए गए प्रश्न में, एक कथन के बाद I और II क्रमांकित दो धारणाएँ दी गई हैं। कथन और निम्नलिखित धारणाओं के आधार पर, निर्णय लें कि कौन सी धारणा निहित है/हैं।
कथन: एक बस एजेंसी ने बोर्ड बैठक के बाद यात्री किराया 10% बढ़ाने का निर्णय लिया है।
धारणाएँ:
I सीटों की मांग में भारी गिरावट आएगी।
II अन्य बस एजेंसियाँ भी अपना किराया बढ़ाएंगी।
(A) केवल I ही निहित है
(B) केवल II ही निहित है
(C) I और II दोनों निहित हैं
(D) न तो I और न ही II निहित है
(E) अनुत्तरित प्रश्न
- 63 Name the Khyal which is a beautiful fusion of contemporary news, poetry, music, songs and dance.
(A) Hela Khyal (B) Jaipuri Khyal
(C) Kanhaiya Khyal (D) Shekhawati Khyal
(E) Question not attempted
- 64 Name the famous 'Swaang' artist who has represented Rajasthan in Bharat Utsav ?
(A) Janki Lal Bhand (B) Lachhiram
(C) Mangilal Mistri (D) Gopi Kishan Bhatt
(E) Question not attempted
- 65 Shrilal Joshi, a phad artist belongs to :
(A) Sikar (B) Jaipur
(C) Churu (D) Bhilwara
(E) Question not attempted
- 66 Who among the following wrote the 'Vamsha Bhaskar', a four volume history?
(A) Suryamal Mishran
(B) Kaviraj Shyamaldas
(C) Gobind Gangadhar Pandey
(D) Dashora Durlabh Ram
(E) Question not attempted
- 67 Name the author of 'Annals and Antiquities of Rajasthan'.
(A) Col. James Tod (B) James Skinner
(C) James Prinsep (D) Alexander Cunningham
(E) Question not attempted
- 68 Which temple is situated at the foothills in Rewasa village of Sikar?
(A) Diggi Kalyanji (B) Jeenmata
(C) Kaila Devi (D) Khatu Shyamji
(E) Question not attempted
- 69 Below is a statement followed by two assumptions. Based only on the statement, decide which of the assumptions is/are implicit in the statement.
Statement: When people ask who painted your home, you know that your home is excellently painted.
Assumptions:
I. People want you to tell them the criteria for excellent painting.
II. People do not ask about your painter if the painting of your home is not good.
(A) Only I is implicit
(B) Only II is implicit
(C) Both I and II are implicit
(D) Neither I nor II is implicit
(E) Question not attempted
- 70 In the question given below, a statement is followed by two assumptions numbered I and II. Based on the statement and following assumptions, decide which of the assumptions is/are implicit.
Statement: A bus agency has decided to increase the passenger fare by 10% after the board meeting.
Assumptions:
I. The demand for the seats will fall drastically.
II. Other bus agencies will also hike their fares.
(A) Only I is implicit
(B) Only II is implicit
(C) Both I and II are implicit
(D) Neither I nor II is implicit
(E) Question not attempted

- 71 नीचे एक कथन और उसके बाद दो धारणाएँ दी गई हैं। केवल कथन के आधार पर, निर्णय लें कि कौन सी धारणा कथन में निहित है/हैं।

कथन: मैं स्थान X पर इंटरनेट का उपयोग नहीं कर सकता।

धारणाएँ:

- I. स्थान X पर इंटरनेट सुविधा उपलब्ध नहीं है।
 - II. आजकल इंटरनेट ठीक से काम नहीं कर रहा है।
- (A) केवल I ही निहित है
(B) केवल II ही निहित है
(C) I और II दोनों निहित हैं
(D) न तो I और न ही II निहित है
(E) अनुत्तरित प्रश्न

- 72 नीचे एक कथन और उसके बाद दो तर्क I और II दिए गए हैं। आपको यह तय करना होगा कि कोई विशेष तर्क मजबूत है या नहीं।

कथन: क्या हर लड़की को आत्मरक्षा का प्रशिक्षण लेना चाहिए?

तर्क:

- I. नहीं। वे मर्दाना हो जाएँगी।
 - II. हाँ। इससे उन्हें अपने विरुद्ध अपराधियों का प्रभावी ढंग से मुकाबला करने का आत्मविश्वास मिलेगा।
- (A) केवल तर्क I मजबूत है
(B) केवल तर्क II मजबूत है
(C) I और II दोनों मजबूत हैं
(D) न तो I और न ही II मजबूत है
(E) अनुत्तरित प्रश्न

- 73 नीचे एक कथन और उसके बाद दो तर्क I और II दिए गए हैं। आपको यह तय करना होगा कि कोई विशेष तर्क मजबूत है या नहीं।

कथन: क्या बाघों के अवैध शिकार पर प्रतिबंध हटा दिया जाना चाहिए?

तर्क:

- I. हाँ। शिकारी अपनी आजीविका खो रहे हैं।
 - II. हाँ। बाघ खतरनाक जानवर हैं और इंसानों के लिए खतरा हो सकते हैं।
- (A) केवल तर्क I मजबूत है
(B) केवल तर्क II मजबूत है
(C) I और II दोनों मजबूत हैं
(D) न तो I और न ही II मजबूत है
(E) अनुत्तरित प्रश्न

- 74 आपको एक कथन और उसके बाद दो तर्क I और II दिए गए हैं। तय करें कि कोई विशेष तर्क मजबूत है या नहीं।

कथन: क्या तीन वर्षों में होने वाली आगामी विश्व कप श्रृंखला के लिए फुटबॉल टीम के कप्तान के स्थान पर किसी अनुभवी खिलाड़ी को नियुक्त किया जाना चाहिए?

तर्क:

- I. हाँ। वर्तमान कप्तान सेवानिवृत्ति के करीब है और भविष्य के लिए एक नए कप्तान को तैयार करने की जरूरत है।
 - II. हाँ। वर्तमान कप्तान का टीम चयन प्रक्रिया में पक्षपातपूर्ण रवैया है।
- (A) केवल तर्क I मजबूत है
(B) केवल तर्क II मजबूत है
(C) I और II दोनों मजबूत हैं
(D) न तो I और न ही II मजबूत है
(E) अनुत्तरित प्रश्न

- 71 Below is a statement followed by two assumptions. Based only on the statement, decide which of the assumptions is/are implicit in the statement.

Statement: I cannot use internet at location X.

Assumptions:

- I. Internet facility is not available at location X.
 - II. These days the internet is not working properly.
- (A) Only I is implicit
(B) Only II is implicit
(C) Both I and II are implicit
(D) Neither I nor II is implicit
(E) Question not attempted

- 72 Given below is one statement followed by two arguments I and II. You have to decide whether a particular argument is strong or not.

Statement: Should every girl have self-defence training?

Arguments:

- I. No. They will turn masculine.
 - II. Yes. It would give them the confidence to counter their perpetrators effectively.
- (A) Only argument I is strong
(B) Only argument II is strong
(C) Both I and II are strong
(D) Neither I nor II is strong
(E) Question not attempted

- 73 Given below is one statement followed by two arguments I and II. You have to decide whether a particular argument is strong or not.

Statement: Should the ban on poaching tigers be lifted?

Arguments:

- I. Yes. The poachers are losing their livelihood.
 - II. Yes. The tigers are dangerous animals and could be a threat to humans.
- (A) Only argument I is strong
(B) Only argument II is strong
(C) Both I and II are strong
(D) Neither I nor II is strong
(E) Question not attempted

- 74 You are given a statement followed by two arguments I and II. Decide whether a particular argument is strong or not.

Statement: Should the captain of the football team be replaced by a experienced player for the upcoming world cup series due in three years?

Arguments:

- I. Yes. The current captain is nearing retirement and a new captain needs to be nurtured for future.
 - II. Yes. The current captain has a partisan attitude in the team selection procedure.
- (A) Only argument I is strong
(B) Only argument II is strong
(C) Both I and II are strong
(D) Neither I nor II is strong
(E) Question not attempted

- 75 निम्नलिखित प्रश्न में, दो कथन (a) तथा (b) और उसके बाद दो निष्कर्ष I और II दिए गए हैं। आपको कथनों को सत्य मानना है, भले ही वे सामान्यतः ज्ञात तथ्यों से भिन्न प्रतीत होते हों। आपको यह तय करना है कि दिए गए निष्कर्षों में से कौन सा, यदि कोई हो, दिए गए कथनों का अनुसरण करता है।

कथन:

- जो लोग समय के पाबंद हैं, वे जीवन में सफल होते हैं।
- शीतल ने हमेशा समय का सम्मान किया है।

निष्कर्ष:

- शीतल एक सफल व्यक्ति है।
 - शीतल एक उद्यमी हैं।
- केवल निष्कर्ष I अनुसरण करता है
 - केवल निष्कर्ष II अनुसरण करता है
 - या तो I या II अनुसरण करता है
 - I और II दोनों अनुसरण करते हैं
 - अनुत्तरित प्रश्न

- 76 नीचे दिए गए प्रश्न में एक कथन और उसके बाद दो निष्कर्ष I और II दिए गए हैं। कथन में दी गई सभी बातों को सत्य मानें, फिर निर्णय लें कि कौन सा निष्कर्ष उचित संदेह से परे कथन का अनुसरण करता है।

कथन: एक राज्य के मुख्यमंत्री ने अपने तीन मंत्रियों को शाम तक या तो अपना इस्तीफा सौंपने या अनुशासनात्मक कार्रवाई का सामना करने के लिए कहा। उनमें से दो ने तुरंत इस्तीफा दे दिया।

निष्कर्ष:

- शेष एक मंत्री शाम तक इस्तीफा दे देगा।
 - मुख्यमंत्री उसके खिलाफ अनुशासनात्मक कार्रवाई करेंगे।
- केवल निष्कर्ष I अनुसरण करता है
 - केवल निष्कर्ष II अनुसरण करता है
 - या तो I या II अनुसरण करता है
 - I और II दोनों अनुसरण करते हैं
 - अनुत्तरित प्रश्न

- 77 इस प्रश्न में एक कथन के बाद निष्कर्षों का एक समूह दिया गया है। ध्यानपूर्वक मूल्यांकन करें कि कौन सा/से निष्कर्ष कथन का तार्किक रूप से अनुसरण करता/करते हैं और सही विकल्प चुनें।

कथन: कृति हिन्दुस्तानी डांस एकेडमी से नृत्य सीखती है, वह एक संस्कारी लड़की है।

निष्कर्ष:

- इस तथ्य के अलावा कि वह नृत्य सीखती है, कृति का एक और गुण सभी के साथ उसका अच्छा व्यवहार है।
 - जो लोग नृत्य सीखते हैं उनका व्यवहार अच्छा होता है।
- I और II दोनों अनुसरण करते हैं
 - केवल I अनुसरण करता है
 - ना तो I या II अनुसरण करता है
 - केवल II अनुसरण करता है
 - अनुत्तरित प्रश्न

- 75 In the following question, there are two statements (a) and (b) followed by two conclusions I and II. You have to consider the statements to be true even if they seem to be at variance from commonly known facts. You have to decide which of the given conclusions, if any, follow from the given statements.

Statement:

- All who are punctual, succeed in life.
- Sheetal has always respected time.

Conclusions:

- Sheetal is a successful person.
 - Sheetal is an entrepreneur.
- Only conclusion I follows
 - Only conclusion II follows
 - Either I or II follows
 - Both I and II follow
 - Question not attempted

- 76 In the question given below, there is a statement followed by two conclusions I and II. Assume everything in the statement to be true, then decide which of the conclusions follow the statement beyond reasonable doubt.

Statement: The Chief Minister of a state asked three of his ministers to either submit their resignations by the evening or face disciplinary action. Two of them resigned immediately.

Conclusions:

- The remaining one would resign by the evening.
 - The Chief Minister will take disciplinary action against him.
- Only conclusion I follows
 - Only conclusion II follows
 - Either I or II follows
 - Both I and II follow
 - Question not attempted

- 77 In this question, a statement is followed by a set of conclusions. Carefully assess which of the conclusion(s) logically follow(s) from the statement and choose the correct option.

Statement: Kriti learns dance from the Hindustani Dance Academy. She is a well mannered girl.

Conclusions:

- Besides the fact that she learns dance, another trait of Kriti is her nice behaviour with everyone.
 - People who learn dance are bound to be well behaved.
- Both I and II follow
 - Only I follows
 - Neither I nor II follows
 - Only II follows
 - Question not attempted

- 78 नीचे दिए गए प्रश्न में, एक कथन के बाद तीन क्रियाविधि I, II और III दी गई हैं। कथन में दी गई सभी बातों को सत्य मानते हुए, निर्णय लें कि सुझाए गए कार्यों में से कौन सा तार्किक रूप से अनुसरण करता है।

कथन: गंभीर धुंध (स्मॉग) के कारण शहर में फेफड़ों से संबंधित बीमारियों में उल्लेखनीय वृद्धि हुई है।

कार्रवाई के तरीके:

- जनता को सार्वजनिक परिवहन का उपयोग करने के लिए प्रोत्साहित किया जाना चाहिए।
 - अस्पतालों को स्थिति के बारे में सूचित किया जाना चाहिए और रोगियों की बड़ी अन्तर्वाह को संभालने के लिए तैयार रहने के लिए कहा जाना चाहिए।
 - स्वास्थ्य अधिकारियों के एक प्रतिनिधिमंडल को देश के राष्ट्रपति से मिलकर स्थिति की जानकारी देनी चाहिए।
- (A) केवल I और II अनुसरण करते हैं
(B) केवल I और III अनुसरण करते हैं
(C) केवल II और III अनुसरण करते हैं
(D) केवल II अनुसरण करता है
(E) अनुत्तरित प्रश्न

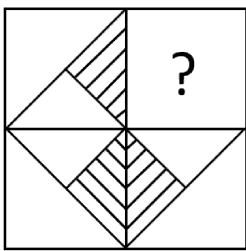
- 79 नीचे दिए गए प्रश्न में, एक कथन के बाद दो क्रियाविधि I और II दी गई हैं। कथन में दी गई जानकारी को सत्य मानते हुए, तय करें कि सुझाए गए कार्यों में से कौन सा तार्किक रूप से अनुसरण करता है।

कथन: यदि सेवानिवृत्त वरिष्ठ पुलिस अधिकारियों को एक बहुत प्रतिष्ठित विश्वविद्यालय के दीक्षांत समारोह के दौरान सुरक्षा व्यवस्था पर विचार-विमर्श करने के लिए आमंत्रित किया जाता है, तो यह वास्तव में बहुत मददगार होगा।

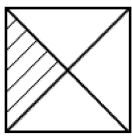
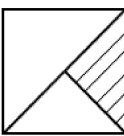
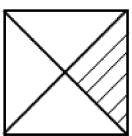
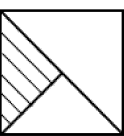
कार्रवाई के तरीके:

- प्रबंधन को सेवानिवृत्त पुलिस कर्मियों को बुलाने से पहले विश्वविद्यालय के प्रोफेसर्स की अनुमति लेनी चाहिए।
 - प्रॉक्टोरल टीम को विश्वविद्यालय की सुरक्षा बढ़ाने के लिए अनुभवी लोगों को शामिल करना चाहिए।
- (A) केवल I अनुसरण करता है
(B) केवल II अनुसरण करता है
(C) या तो I या II अनुसरण करता है
(D) I और II दोनों अनुसरण करते हैं
(E) अनुत्तरित प्रश्न

- 80 निम्नलिखित में से कौन सी आकृति चित्र(X) के पैटर्न को पूरा करेगी ?



(X)

- (A)  (B) 
- (C)  (D) 
- (E) अनुत्तरित प्रश्न

- 78 In the question given below, there is a statement followed by three courses of action I, II and III. Assuming everything given in the statement as true, decide which of the suggested course of action logically follow(s).

Statement: There is a significant increase in lung related ailments in the city due to severe smog.

Courses of Action:

- Public must be encouraged to use public transport.
 - Hospitals should be informed about the situation and asked to remain prepared to handle large inflow of patients.
 - A delegation of health officials should visit the President of the country to intimate about the situation.
- (A) Only I and II follow (B) Only I and III follow
(C) Only II and III follow (D) Only II follows
(E) Question not attempted

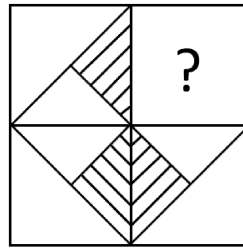
- 79 In the question given below, there is a statement followed by two courses of action I and II. Assuming the information given in the statement as true, decide which of the suggested course(s) of action logically follow(s).

Statement: If the retired senior police officers are invited to deliberate on security arrangements during the convocation ceremony of a very reputed university, it would really be of great help.

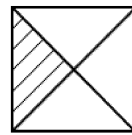
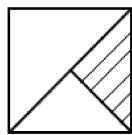
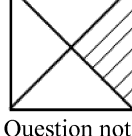
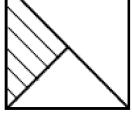
Courses of Action:

- The management should seek permission of the professors of the university before calling retired police personnels.
 - The proctoral team should involve experienced people in beefing up the security of the university.
- (A) Only I follows (B) Only II follows
(C) Either I or II follows (D) Both I and II follow
(E) Question not attempted

- 80 Which of the following figures will complete the pattern in figure(X)?



(X)

- (A)  (B) 
- (C)  (D) 
- (E) Question not attempted

- 81 भारत के किस स्टेडियम में महान क्रिकेट खिलाड़ी सचिन तेंदुलकर की प्रतिमा का अनावरण किया गया?
(A) ईडन गार्डन (B) वानखेडे स्टेडियम
(C) अरुण जेटली स्टेडियम (D) नरेंद्र मोदी स्टेडियम
(E) अनुत्तरित प्रश्न
- 82 राइजिंग राजस्थान वैश्विक निवेश शिखर सम्मेलन-2024 कहाँ आयोजित किया गया? (निम्न में से सबसे उपयुक्त विकल्प चुनें)
(A) जोधपुर (B) उदयपुर
(C) जैसलमेर (D) जयपुर
(E) अनुत्तरित प्रश्न
- 83 गगन शक्ति-2024 अभ्यास भारतीय वायु सेना द्वारा राजस्थान के किस स्थान पर आयोजित किया गया?
(A) जोधपुर (B) पोखरण
(C) अलवर (D) बाड़मेर
(E) अनुत्तरित प्रश्न
- 84 निम्नलिखित में से कौन एकमात्र भारतीय कप्तान है, पुरुष या महिला, जिसने 2005 और 2017 में भारत को दो विश्व कप क्रिकेट फाइनल में पहुंचाया है?
(A) युवराज सिंह (B) एम. एस. धोनी
(C) मिताली राज (D) हरमनप्रीत कौर
(E) अनुत्तरित प्रश्न
- 85 लैंगिक समानता को बढ़ावा देने और लिंगानुपात बढ़ाने के लिए महिला एवं बाल विकास मंत्रालय द्वारा कौन सी योजना शुरू की गई?
(A) मिशन इंद्रधनुष
(B) बेटी बचाओ बेटी पढ़ाओ योजना
(C) प्रधानमंत्री गरीब कल्याण योजना
(D) पीएम श्री योजना
(E) अनुत्तरित प्रश्न
- 86 मोमबत्ती जलाने के दौरान:-
(A) केवल भौतिक परिवर्तन होता है
(B) केवल रासायनिक परिवर्तन होता है
(C) न तो भौतिक और न ही रासायनिक परिवर्तन होता है
(D) भौतिक एवं रासायनिक दोनों परिवर्तन होते हैं
(E) अनुत्तरित प्रश्न
- 87 वे तत्व जो इलेक्ट्रॉन प्राप्त करके ऋणायन बनाते हैं, कहलाते हैं:-
(A) धातुएँ (B) अधातु
(C) आघातवर्ध्य तत्व (D) तन्य तत्व
(E) अनुत्तरित प्रश्न
- 88 निम्नलिखित में से कौन सा एम्फोटेरिक ऑक्साइड का उदाहरण है?
(A) CO_2 (B) SiO_2
(C) CrO_3 (D) PbO
(E) अनुत्तरित प्रश्न
- 89 यदि किसी वस्तु की स्थिति अनन्त पर हो, तो उसका उत्तल दर्पण द्वारा निर्मित प्रतिबिम्ब होगा:-
(A) फोकस पर दर्पण के पीछे
(B) दर्पण के ध्रुव पर
(C) अनन्त पर
(D) दर्पण के ध्रुव और फोकस के बीच
(E) अनुत्तरित प्रश्न
- 90 वह लक्षण जो F_1 पीढ़ी में स्वयं को अभिव्यक्त नहीं करता है, कहलाता है:-
(A) युग्मविकल्पी (B) अप्रभावी लक्षण
(C) प्रभावी लक्षण (D) अनुवांशिक रूप
(E) अनुत्तरित प्रश्न
- 81 In which stadium of India was the statue of the great cricket player Sachin Tendulkar unveiled?
(A) Eden Garden (B) Wankhede Stadium
(C) Arun Jaitley Stadium (D) Narendra Modi Stadium
(E) Question not attempted
- 82 Where was the Rising Rajasthan Global Investment Summit-2024 organised? (Choose the most appropriate option from below)
(A) Jodhpur (B) Udaipur
(C) Jaisalmer (D) Jaipur
(E) Question not attempted
- 83 "Gagan Shakti-2024" exercise was conducted by the Indian Air Force at which place of Rajasthan?
(A) Jodhpur (B) Pokhran
(C) Alwar (D) Barmer
(E) Question not attempted
- 84 Who among the following is the only Indian skipper, men or women, to have led India to two world cup cricket finals in 2005 and 2017?
(A) Yuvraj Singh (B) M. S. Dhoni
(C) Mithali Raj (D) Harmanpreet Kaur
(E) Question not attempted
- 85 Which scheme was launched by Ministry of Women and Child Development to promote gender equality and increase sex ratio?
(A) Mission Indradhanush
(B) Beti Bachao Beti Padhao Yojana
(C) Pradhan Mantri Garib Kalyan Yojana
(D) PM Shree Yojana
(E) Question not attempted
- 86 During the burning of a candle:-
(A) Only physical change occurs
(B) Only chemical change occurs
(C) Neither physical nor chemical change occurs
(D) Both physical and chemical changes occur
(E) Question not attempted
- 87 The elements which tend to form anions by gaining electrons are known as:-
(A) Metals (B) Non-metals
(C) Malleable elements (D) Ductile elements
(E) Question not attempted
- 88 Which of the following is an example of amphoteric oxide?
(A) CO_2 (B) SiO_2
(C) CrO_3 (D) PbO
(E) Question not attempted
- 89 If the position of an object is at infinity, its image formed by a convex mirror will be:-
(A) At the focus behind the mirror
(B) At the pole of the mirror
(C) At infinity
(D) Between the pole and the focus of the mirror
(E) Question not attempted
- 90 The character which does not express itself in F_1 generation is called:-
(A) Allelomorph (B) Recessive character
(C) Dominant character (D) Genotype
(E) Question not attempted

- 91 नीचे दिए गए प्रश्न में, एक कथन के बाद दो क्रियाविधि I और II दी गई हैं। कथन में दी गई सभी बातों को सत्य मानते हुए, निर्णय लें कि सुझाए गए कार्यों में से कौन सा तार्किक रूप से अनुसरण करता है।
कथन: दुपहिया वाहन चालकों के बीच सिर की चोट से संबंधित मौतों में उल्लेखनीय वृद्धि हुई है।
कार्रवाई के तरीके:
I. यातायात पुलिस को दुपहिया वाहन चलाते समय हेलमेट न पहनने पर भारी जुर्माना लगाना चाहिए।
II. मुख्य मार्गों पर दुपहिया वाहनों पर प्रतिबंध लगाया जाना चाहिए।
(A) केवल I अनुसरण करता है
(B) केवल II अनुसरण करता है
(C) या तो I या II अनुसरण करता है
(D) I और II दोनों अनुसरण करते हैं
(E) अनुत्तरित प्रश्न
- 92 दी गई श्रृंखला में लुप्त पद ज्ञात कीजिए:
289, 262, 235, ?, 181, 154, 127
(A) 200 (B) 207
(C) 201 (D) 208
(E) अनुत्तरित प्रश्न
- 93 दी गई श्रृंखला में लुप्त पद ज्ञात कीजिए:
7, 14, ?, 56, 112, 224
(A) 28 (B) 29
(C) 31 (D) 35
(E) अनुत्तरित प्रश्न
- 94 दी गई श्रृंखला में गलत पद ज्ञात कीजिये:
11, 22, 44, 88, 110, 352
(A) 44 (B) 352
(C) 110 (D) 88
(E) अनुत्तरित प्रश्न
- 95 श्रृंखला में अगला पद ज्ञात कीजिये :
12, 12, 18, 36, 90, ?
(A) 280 (B) 270
(C) 290 (D) 300
(E) अनुत्तरित प्रश्न
- 96 दी गई श्रृंखला में अगला पद ज्ञात कीजिए:
1, 4, 9, 16, 25, 36, ____
(A) 64 (B) 49
(C) 81 (D) 48
(E) अनुत्तरित प्रश्न
- 97 निम्नलिखित में से कौन सा पद दी गई श्रृंखला में प्रवृत्ति का अनुसरण करता है?
Z, XW, TSR, NMLK, ?
(A) EDCBA (B) BCEDF
(C) EFDCB (D) FEDCB
(E) अनुत्तरित प्रश्न
- 98 श्रृंखला में लुप्त पद ज्ञात कीजिए:
MFSV, OJYD, ?, SRKT, UVQB
(A) QNDL (B) POCL
(C) QNEL (D) QMFO
(E) अनुत्तरित प्रश्न
- 99 श्रृंखला में अगला पद ज्ञात कीजिये :
PH, ME, JB, GY, ?
(A) DV (B) CV
(C) DW (D) AZ
(E) अनुत्तरित प्रश्न
- 100 दी गई श्रृंखला में आगे क्या आना चाहिए?
BEAUTIFUL, BEAUTIFU, EAUTIFU, EAUTIF, ?
(A) AUTIF (B) UTAIF
(C) EAUTI (D) TAFIU
(E) अनुत्तरित प्रश्न

- 91 In the question given below, there is a statement followed by two courses of action I and II. Assuming everything given in the statement as true, decide which of the suggested course (s) of action logically follow(s).
Statement: There was a significant rise in head injury related deaths among two wheeler riders.
Courses of Action:
I. The traffic police should impose hefty fines for not wearing helmet while riding two wheeler.
II. Two wheelers should be banned on main roads.
(A) Only I follows (B) Only II follows
(C) Either I or II follows (D) Both I and II follow
(E) Question not attempted
- 92 Find the missing term in the given series:
289, 262, 235, ?, 181, 154, 127
(A) 200 (B) 207
(C) 201 (D) 208
(E) Question not attempted
- 93 Find the missing term in the given series:
7, 14, ?, 56, 112, 224
(A) 28 (B) 29
(C) 31 (D) 35
(E) Question not attempted
- 94 Find the wrong term in the given series:
11, 22, 44, 88, 110, 352
(A) 44 (B) 352
(C) 110 (D) 88
(E) Question not attempted
- 95 Find the next term in the series:
12, 12, 18, 36, 90, ?
(A) 280 (B) 270
(C) 290 (D) 300
(E) Question not attempted
- 96 Find the next term in the given series:
1, 4, 9, 16, 25, 36, ____
(A) 64 (B) 49
(C) 81 (D) 48
(E) Question not attempted
- 97 Which of the following term follows the trend in the given series?
Z, XW, TSR, NMLK, ?
(A) EDCBA (B) BCEDF
(C) EFDCB (D) FEDCB
(E) Question not attempted
- 98 Find the missing term in the series:
MFSV, OJYD, ?, SRKT, UVQB
(A) QNDL (B) POCL
(C) QNEL (D) QMFO
(E) Question not attempted
- 99 Find the next term in the series:
PH, ME, JB, GY, ?
(A) DV (B) CV
(C) DW (D) AZ
(E) Question not attempted
- 100 What should come next in the given series?
BEAUTIFUL, BEAUTIFU, EAUTIFU, EAUTIF, ?
(A) AUTIF (B) UTAIF
(C) EAUTI (D) TAFIU
(E) Question not attempted

SPACE FOR ROUGH WORK / रफ कार्य के लिए स्थान

उत्तर पत्रक में दो प्रतियाँ हैं - मूल प्रति और द्वितीय प्रति, परीक्षा समाप्ति पर परीक्षा कक्ष छोड़ने से पूर्व परीक्षार्थी उत्तर पत्रक की दोनों प्रतियाँ वीक्षक को सौंपेंगे, परीक्षार्थी स्वयं द्वितीय प्रति को अलग नहीं करें। वीक्षक द्वारा उत्तर पत्रक की मूल प्रति को अपने पास जमा कर, द्वितीय प्रति को मूल प्रति से कट लाइन से मोड़ कर सावधानी पूर्वक अलग कर परीक्षार्थी को सौंपेंगे। परीक्षार्थी द्वितीय प्रति को अपने साथ ले जायेंगे।